



سماجی سائنس مشقیہ (ورک بک)

حصہ اول

8

جماعت ہشتم

2020 - 21

نام: _____

اسکول کا نام: _____

ریاستی تعلیمی تحقیقی اور تربیتی محکمہ
نمبر 4-100 فٹ رنگ روڈ، بنشکری 13 سیٹج،

بنگلور-560085



حصہ اول
فہرست مضامین

صفحہ نمبر	اسباق کے نام	شمار نمبر
تاریخ		
01	ذرائع یا وسیلے	01
04	جغرافیائی خصوصیات اور ماقبل تاریخ ہندوستان	02
07	ہندوستان کی قدیم تہذیبیں	03
09	دنیا کی قدیم تہذیبیں	04
13	یونان، روم اور امریکی تہذیبیں	05
17	چین اور بدھ مذہب کا عروج	06
سیاسی سائنس		
21	سیاسی سائنس کے معنی اور اس کی اہمیت	01
25	عوامی انتظامیہ	02
سماجی سائنس		
29	سماجیات / سماجی سائنس کا تعارف	01
32	تہذیب	02
جغرافیہ		
36	زمین ہمارا ہائٹی سیارہ	01
40	کرہ حجری (لیتھو سفیر)	02
معاشیات		
46	معاشیات	01
49	معشیت کی معنی اور اہمیت	02
تجارتی تعلیمات		
52	تجارتی مطالعہ کی اکائیاں	01
MODEL QUESTION PAPERS نمونہ سوالیہ پرچے		
	MODEL QUESTION PAPER 1 نمونہ سوالیہ پرچہ	01
	MODEL QUESTION PAPER 2 نمونہ سوالیہ پرچہ	02

HISTORY تاریخ:

باب-1 ذرائع یا وسیلے

I۔ درج ذیل سوالات کے چار جوابات دئے گئے ہیں، مناسب جواب کی نشاندہی کیجئے۔

1۔ کلہانہ کی تصنیف

(a) ہر ش چرتا (b) پرتھوی راج (c) راج ترنگی (d) وکرامار جناو جیم

جواب

2۔ یادگیری (کلبرگی) ضلع کے سانا تھی اور ڈوڈ بالا پور کے راجا گھٹا کی کھدائی کے دوران ملنے والے کھنڈرات

(a) جین بسدی (b) چیتھالیہ (c) بدھ استوپا (d) غار

جواب

3۔ چولاراجاؤں کے دہی انتظامات کو بیان کرنے والا کتبہ

(a) ہاتھی گمپہ کتبہ (b) آئی ہوڑے کتبہ (c) الہ آباد کتبہ (d) شمالی میرور کتبہ

جواب

II۔ فہرست "A" کے مصنف کو فہرست "B" کی تصانیف کے ساتھ جوڑیئے۔

الف	ب	جوابات
1۔ میگھا ستھنیز	الف۔ جیوگرانی	1۔
2۔ فابیان	ب۔ سی۔ یو۔ کی	2۔
3۔ ہیون ستانگ	ج۔ انڈیکا	3۔
4۔ ٹالمی	د۔ گھوکھو کی	4۔

III۔ ابتدائی دو الفاظ کے تعلق کو مد نظر رکھتے ہوئے تیسرے لفظ کا تعلق لکھئے۔

1۔ ہالا :	گتھاپتھاپتی ::	وساکا دتا :
2۔ مہرولی :	لوہے کا ستون ::	وجے پور :
3۔ کتبات :	کندہ کے ارئے ::	داستان :

IV۔ خالی جگہوں کو مناسب الفاظ سے پر کرو۔

- 1۔ سات قسم کے سونے کے سکے بنانے والا گپتوں کا بادشاہ۔
- 2۔ اشوک کے زیادہ تر کتبوں میں پائے جانے والا رسم الخط۔
- 3۔ تاریخ لکھنے کے لئے درکار ضروری ذرائع۔

V۔ درج ذیل سوالات کے دو یا تین جملوں میں جوابات لکھئے۔

1۔ تاریخی ثبوت کے طور پر ملکی اور غیر ملکی ادب میں پائے جانے والی ایک ایک خامی بتائیے؟

جواب۔

2۔ کتبات کے کیا معنی ہیں؟ تاریخ لکھنے میں یہ زیادہ قابل اعتماد کیوں؟

جواب۔

VI۔ درج ذیل پر مختصر نوٹ لکھیے۔

1۔ زبانی ادب

جواب۔

باب 2۔ جغرافیائی خصوصیات اور ما قبل تاریخ ہندوستان

I۔ مناسب جوابات سے خانہ پری کیجئے۔

1۔ بھارت کو دو حصوں میں تقسیم کرنے والی ندی۔

2۔ وہ پہاڑ جو دنیا کے بلند ترین پہاڑی سلسلوں میں شمار ہوتے ہیں۔

3۔ ما قبل تاریخ عہد کا مطالعہ کرنے والوں کو۔

II۔ درج ذیل جملوں کو دور کے مطابق ترتیب سے جوڑئے۔

1۔ فلیس اگانے کا طریقہ ایجاد کیا۔

2۔ روئے زمین کی گرمی مزید بڑھ گئی۔

3۔ جانوروں کی پرورش اور ڈیری کا طریقہ رائج ہوا۔

4۔ گھاس کے میدان کی ترقی۔

جواب۔

III۔ دو یا تین جملوں میں جواب دیجئے۔

1۔ بھارت کو برصغیر کہتے ہیں۔ کیوں؟

جواب۔

2۔ ہندوستان کے ساحلی علاقے کی تاریخی اہمیت بتائیے؟

جواب۔

IV۔ غیر متعلق لفظ کی نشاندہی کیجئے۔

1 (a) کورامنڈل کوسٹ (b) کونکن ساحلی علاقہ (c) کیسزاساحلی علاقہ (d) مالابار علاقہ

جواب-----

2 (a) پاکستان (b) چین (c) نیپال (d) امریکہ

جواب-----

3 (a) بولان اور خیبر (b) بھیم بیٹکا (c) ہسنگی (d) کرنول

جواب-----

V۔ بھارت کا نقشہ بنا کر درج ذیل مقامات کی نشاندہی کیجئے۔

(a) ہمالیہ پہاڑی سلسلہ (b) وندھیا چل پہاڑی سلسلہ (c) گنگاندی (d) تھار ریگستان



VI۔ نوٹ لکھئے۔




1۔ قدیم پتھر کا دور

جواب۔

2۔ درمیانی پتھر کا دور

جواب۔

طالب علم کا خود کا محاسبہ

نمبر شمار	تعلیمی اشارے		
			
	ہندوستان کے جغرافیائی خصوصیات کی جانکاری حاصل ہوئی ہے۔		
	ما قبل تاریخ عہد کی انسانی زندگی کے بارے میں جان گئے ہیں		

اساتذہ کی رائے

بہترین

بہتر

اوسط

دستخط مدرس۔

باب 3۔ ہندوستان ہندوستان کی قدیم تہذیب

I۔ مندرجہ ذیل سوالات کے چار جوابات دیے گئے ہیں مناسب جواب منتخب کرتے ہوئے لکھئے۔

1۔ ریگ وید دور میں کاشتکاری کی زمین کو..... کہتے ہیں

(a) کروشی (b) شیترا (c) آریاس (d) کشیرا

2۔ ریگ وید دور کے "سبھا" اور "سمیتی" مندرجہ ذیل سے وابستہ ہیں۔

(a) مذہبی ادارے (b) مالی ادارے (c) سیاسی اصلاحی ادارے (d) روحانی ادارے

II درج ذیل A فہرست میں رگ وید دور کے اعتماد کے مطابق قبائلی شخص کے جسمانی اعضاء کو B فہرست کے قبائلی نسل کے

طبقات دئے گئے ہیں انہیں مناسب جوڑ لگائیے۔

جوابات	B	A
-----	سودرا	1۔ منہ
-----	ویشیا	2۔ بازو
-----	براہمن	3۔ ران
-----	کشتریا یا	4۔ قدم

III۔ پہلے دو الفاظ کے جوڑوں کی طرح تیسرے لفظ کا مناسب لفظی جوڑ لکھئے۔

1۔ کالی، ننگن اور لو تھال : آگ کے چولی :: موہنجودارو : -----

2۔ ویدک بنگنا اور پوجا : برہمن :: تیراندازی میں ماہر : -----

IV۔ مندرجہ ذیل پر نوٹ لکھیے

1۔ ریگ وید دور کا مذہبی نظام

جواب

باب-4- دنیا کی قدیم ترین تہذیب

I۔ پہلے دو الفاظ کے مناسب جوڑو کی طرح تیسرے لفظ کا مناسب لفظی جوڑ لگائیے۔

1۔ دریائے نیل : مصری تہذیب :: ہوانگو : _____

2۔ امورانٹر : ہمورابی :: چالڈین : _____

II۔ مندرجہ ذیل سوراگ کا استعمال کرتے ہوئے جوابات لکھیے۔

سراغ 1: چینی تہذیب کے سبب آغاز کی ندی

2 آفت چین پکاری جانے والی ندی

جواب۔ _____

2-1۔ مصنوعی پہاڑ بنا کر ان پر انہیں تعمیر کیا گیا۔

2-2۔ یہ میسوپٹومیا (عراق) کے عبادت گاہ تھے۔

جواب۔ _____

3-1۔ وہ بے انتہا خوبصورت تھی (حسین تھی)

2۔ مصر کی آخری

جواب۔ _____

III۔ مناسب الفاظ سے خانوں کو پر کیجئے

1۔ مصریوں کے "پیاروں" لفظ کی معنی۔ _____

2۔ میسوپٹومیا۔ _____ اور _____ ندیوں کا درمیانی علاقہ تھا۔

3۔ مصریوں کے محفوظ شدہ مردہ جسم کو۔ _____ کہا

IV۔ ایک یا دو جملوں میں مندرجہ ذیل سوالوں کے جواب لکھیے۔

1۔ چینی تہذیب کے اہم کارنامے کیا تھے؟

جواب۔ _____

2۔ شازگ بادشاہوں کے زمانے میں "فوج" اہم مقام رکھنے کی وجہ کیا تھی؟

جواب۔

3۔ موت کے بعد انسانی زندگی کے متعلق مصر کے لوگوں کا عقیدہ کیا تھا؟

جواب۔

۷۔ اس تصویر سے متعلق چند جملے لکھیے؟



جواب۔

VI-نوٹ لکھیے (بیان لکھیے)

1. پیراٹڈاہرام

جواب

2. ہمورابی

جواب

3. شازگ بادشاہوں کے دور کی سماجی حالت


جواب

VII- آٹھ یا دس جملوں میں جواب لکھیے۔

1. میسو پوٹومیا کی تاریخ عداوت اور ختم نہ ہونے والی کہانی تھی کیسے؟

جواب

طالب علم کا خود کا محاسبہ

نمبر شمار	تعلیمی نکات			
1	مصری تہذیب کے اہم کارنامہ دین کے متعلق جانکاری			
2	میسو پوٹومیا تعزیت کے متعلق معلومات حاصل ہوئیں			
3	چینی تہذیب کے متعلق جانکاری حاصل ہوئی وی			

استاد کی رائے (صحیح کا نشان لگائے)

غیر مطمئن

بہتر

عمدہ بہترین

دستخط مدرس

باب-5 یونانی، روم اور امریکی تہذیبیں

I- خالی جگہوں کو مناسب الفاظ سے پُر کیجئے۔

- 1- یونانی _____ نسل سے تعلق رکھتے ہیں
 - 2- شہری علاقے (شہری اسٹیٹ) کو یونانی زبان میں _____ کہتے ہیں۔
 - 3- زیوس مندر _____ مقام پر ہے
 - 4- لائیسم نامی اسکول قائم کرنے والا _____
 - 5- قدیم روم کے لوگوں کو _____ کہا جاتا ہے
- II- الف میں دیئے گئے ناموں کو ب میں دیئے گئے لفظوں سے جوڑیئے۔

الف	ب	جوابات
1- فیتا غورث	(a) ڈرامہ نگار	_____
2- ڈیموکریٹس	(b) علم طب (ڈاکٹر)	_____
3- ہپوکریٹس	(c) ریاضی دان	_____
4- سوفوکلز	(d) جوہری نظریہ	_____

III- غیر متعلقہ لفظ چُن کر لکھئے۔

- 1- کرسس پاپے جو لیس سیزر ماک انتھونی
- جواب _____
- 2- پیرو چیلی ٹیکسی کو کو ارجنٹینا
- جواب _____
- 3- مایا مصر آزیٹک انکا
- جواب _____

VI۔ مندرجہ ذیل میں دیئے گئے چار متبادل جواب دیئے گئے ان میں صحیح جواب چُن کر لکھیں۔

1۔ اولمیک ایک _____

(a) زبان (b) مندر (c) اداکاری (d) شہر

2۔ نیچرل ہسٹری نامی کتاب کو لکھنے والا _____

(a) ور جیل (b) سی سی رو (c) پلینی (d) گیالین

3۔ الیگزینڈر یاہ نامی شہر کی تعمیر کرانے والا _____

(a) فیلیپس (b) آر سٹائل (c) الیگزینڈر (d) پلوٹو

V۔ مندرجہ ذیل سوالات کے جوابات تین یا چار جملوں میں لکھئے۔

1۔ اٹھینس شہر کی اسٹیٹ کے بارے میں لکھئے۔

جواب _____

2۔ ادب اور فن تعمیرات میں یونانیوں کی دین کیا تھیں؟




جواب _____

3۔ آگسٹس سیزر کے متعلق لکھئے۔

جواب _____

جواب۔

طلباء کا خود کا جائزہ

نمبر شمار	تعلیمی اشارے یا تعلیمی معیار			
1	یونانی شہری کے متعلق معلومات حاصل کی ہے			
2	رومن شہریت کے متعلق جانکاری حاصل کی ہے			
3	آمریکن شہریت کے متعلق معلومات حاصل کی ہے			

استاد کی رائے (✓ نشان لگائیں)

	بہترین
	بہتر
	اوسط

دستخط برائے معلم۔

VI۔ حرفوں کو معنی خیز انداز میں جوڑیے

1-

2-

3۔ اری گریپا

4۔ بدتمھ گو

V۔ مندرجہ ذیل تصاویر کو نام دیں اور انکی تعلیمات کو لکھیں۔



تصویر۔ 2



تصویر۔ 1

تصویر۔ 1

جواب۔

تصویر۔ 2

جواب۔

IV۔ مندرجہ ذیل سوالات کے تین یا چار جملوں میں جوابات لکھئے۔

1۔ بدھ مذہب کے عروج کے اسباب کیا تھے؟

جواب۔

2۔ ویس اور بدھ اور جین مذہب میں شامل ہونے کے وجوہات لکھئے۔

جواب۔

IIV۔ سرگرمیاں




1۔ تمہارے قریبی بسدی کو جا کر جین مذہب کے متعلق معلومات اکٹھا کریں۔

جواب۔

2۔ استاد یا انٹرنیٹ کی مدد سے جین مذہب کے 24 تیر تھنکر کے ناموں کی فہرست بنائیے۔

جواب۔

طلبہ کا خود کا جائزہ

نمبر شمار	تعلیمی اشارے یا تعلیمی معیار			
1	جین مذہب کے عروج کے متعلق معلومات حاصل کی ہے			
2	جین مذہب کی تعلیمات کے متعلق جانکاری حاصل کی ہے			
3	بدھ مذہب کے عروج اور آشنانگ مارگ کے متعلق معلومات حاصل کی ہے			

استاد کی رائے (✓ نشان لگائیں)

	بہترین
	بہتر
	اوسط

دستخط برائے معلم

سیاسی سائنس Political Science

باب 1- سیاسی سائنس کے معنی اور اہمیت

I- گروپ سے تعلق نہ رکھنے والا لفظ چن کر لکھیے۔

1- مصری۔ یونانی۔ بیلونیا۔ ایرانی

جواب۔

2- سقراط۔ افلاطون۔ ارسطو۔ کوٹیلیا۔

جواب۔

3- مجلس قانون ساز۔ مجلس عاملہ۔ مجلس وزراء۔ عدلیہ

جواب۔

4- پولیٹکس۔ علم معاشیات۔ جمہوریت۔ شہری ریاست

جواب۔

II- نامکمل بیانات کو دیئے گئے جوابات میں سے چن کر مکمل کیجئے۔

1- ریاست کی اصل اور ارتقا کے بارے میں کیا جانے والا مطالعہ / مضمون۔

(a) تاریخ (b) سماجیات (c) سیاسی سائنس (d) معاشیات

جواب۔

2- پولیس یہ لفظ۔

(a) فرانسیسی لفظ (b) یونانی لفظ (c) لاطینی لفظ (d) سنسکرت لفظ

جواب۔

3- پولیس یعنی۔

(a) پولیس افسر (b) شہری پولیس (c) دانشور (d) شہری ریاست

جواب۔

4- یونانی "پالیٹکس" (سیاست) نامی لفظ اس سرگرمی / مطالعے کے لئے استعمال کرتے تھے تھے۔

(a) سائنس (b) فلاسفی (c) ریاست (d) ادب

جواب۔

III۔ فہرست A کہ فلاسفروں کے ناموں کو فہرست B کے تصانیف کے ساتھ جوڑ لگائے۔

جوابات

B

A

- | | | |
|-------|-----------------|------------|
| ----- | (a) ارتھ شاسترا | 1. افلاطون |
| ----- | (b) ریپبلک | 2. ارسطو |
| ----- | (c) پالیٹکس | 3. کوٹلیا |

VI۔ درج ذیل سوالات کے جوابات ایک جملے میں لکھئے۔

1 یونانیوں سے پہلے کن لوگوں نے سیاست سے تعلق رکھنے والے نظریات کو پیش کیا؟

جواب-----

2 یونانی فلاسفروں کے نام لکھئے؟

جواب-----

3 ارسطو کو بابائے سیاسی سائنس کے نام سے کیوں پہچانا جاتا ہے؟

جواب-----

4 پالیٹکس کتاب میں کن نظریات کے بارے میں بحث کی گئی ہے؟

جواب-----

5۔ حکومت کے اہم شعبے کون سے ہیں؟

جواب-----

V۔ بے ترتیب حروف کو جوڑ کر بمعنی لفظ بنائے آئے۔

جواب-----

1. دھ۔ چ۔ ی۔ ک۔ ا۔ ت۔ یا۔ پ

جواب-----

2۔ ے۔ س۔ ا۔ ی۔ د۔ ب۔ ی۔ ے۔ ا۔ ر

جواب-----

3۔ س۔ ت۔ د۔ ر۔ و

جواب-----

4۔ و۔ ا۔ ع۔ ی۔ م۔ ن۔ ا۔ ے۔ د۔ ہ

جواب-----

5۔ س۔ ے۔ ک۔ ا۔ ے۔ ت۔ ن

VI۔ درج ذیل سوالات کے جوابات پانچ یا چھ جملوں میں دیجئے آئے۔





1. سیاسی سائنس کے مطالعے کا اصل اور ارتقاء کے متعلق بیان کیجئے؟

جواب۔




2. سیاسی سائنس کی اہمیت بیان کیجئے؟

جواب۔

VII- ذیل میں مشہور فلاسفروں کی تصاویر دی گئی ہیں ان کو پہچان کر نام لکھیے۔

		01
		02
		03
		04

طالب علم کا خود کا محاسبہ

نمبر شمار	اکتسابی اشارے			
1	میں سیاسی سائنس کے تصور کو بیان کر سکتا ہوں			
2	میں ماہر سیاسی سائنس کو پہچان سکتا ہوں			
3	میں نے سیاسی سائنس کی اہمیت کو سمجھ لیا ہے۔			

معلم کی رائے (✓ نشان لگائیں)

	بہترین
	بہتر
	اوسط

دستخط برائے معلم

سیاسی سائنس

باب-2۔ عوامی انتظامیہ

I۔ خالی جگہوں کو مناسب الفاظ کی مدد سے پُر کیجئے۔

1. "عوامی" لفظ----- کو ظاہر کرتا ہے۔

2----- نے سب سے پہلے "عوامی انتظامیہ" نامی لفظ کا استعمال کیا۔

3. عوامی انتظامیہ کا باد آدم-----

4. کرناٹکا پبلک سروس کمیشن کی بنیاد----- میں پڑی۔

5 ریاستی سیکرٹریٹ کا اعلیٰ عہدیدار----- ہوتا ہے۔

II۔ درج ذیل کی توسیع کیجئے۔

1۔ آئی۔ اے۔ ایس۔ (I.A.S)

جواب-----

2۔ آئی۔ پی۔ ایس۔ (I.P.S)

جواب-----

3۔ آئی۔ ایف۔ ایس۔ (I.F.S)

جواب-----

4۔ آئی۔ اے۔ ایس۔ (I.R.S)

جواب-----

5۔ آئی۔ اے۔ اے۔ ایس۔ (I.A.A.S)

جواب-----

6۔ آئی۔ پی۔ ایف۔ (R.P.F)

جواب-----

7۔ سی۔ آئی۔ ایس۔ ایف۔ (C.I.S.F)

جواب-----

III- نیچے دیئے گئے سوالات کے جوابات صرف ایک جملے میں لکھیے۔

1. عوامی انتظامیہ کیا ہے؟

جواب-----

2. تقرر کئے کتے ہیں؟

جواب-----

3. تربیت کئے کتے ہیں؟

جواب-----

4. کرناٹکا پبلک سروس کمیشن کے صدر کا تقرر کون کرتا ہائی؟

جواب-----

5. یونین پبلک سروس کمیشن کا صدر دفتر کہاں ہے؟

جواب-----

IV- درج ذیل پر مختصر نوٹ لکھیے۔

1. سی آر پی ایف (C.R.P.F)

جواب-----




2. بی ایس ایف (B.S.F)

جواب-----

3. تربیت کے اقسام بتائے؟

جواب

طالب علم کا خود کا محاسبہ

نمبر شمار	اکتسابی اشارے			
1	مجھ میں عوامی انتظامیہ کا تصور آ گیا ہے			
2	تقرر اور تربیت کے بارے میں معلومات حاصل کر چکا/چکی ہو			
3	سیکریٹریٹ کے کاموں کے بارے میں جانچ چکا/چکی ہوں			

معلم کی رائے (✓ نشان لگائیں)

	بہترین
	بہتر
	اوسط

دستخط برائے معلم

سماجی سائنس Social Science

باب 1- سماجیات / سماجی سائنس کا تعارف

I۔ جوڑ کر لکھو۔

جوابات	ب	الف
1-----	(a) - بھارت کے سادھو	1- اگسٹ کامٹے
2-----	(b) - تہذیب انسانیت	2- کارل مارکس
3-----	(c) - ادی۔ سی ٹی	3- جی۔ ایس۔ مارکس
4-----	(d) - داس کیا پٹل	4- میا کس ویبر
	(e) - سیاست اور مذہب	

II، نیچے دئے گئے خالی جگہوں میں اہم سماجی ماہرین کی تصاویر کو چسپاں کر کیجئے اور ان کی دین کے متعلق ایک یادو جملے لکھئے۔

	ڈاکٹری آر امبیڈ کر

	اگسٹ کامٹے

	سی پارتو

	ایمیلی ڈر کھیم

III- خالی جگہوں کو مناسب الفاظ سے پر کرو۔

1- "سوشلسٹس" لفظ کا مطلب _____

2- انسانی سماج کو _____ کہتے ہیں۔

3- شعبہ جاتی مطالعہ _____ نے لکھی۔

4- "دی ریسیمر ڈولج" کتاب کے مصنف _____

IV- مندرجہ ذیل سوالوں کے جوابات ایک لفظ یا جملہ میں لکھو۔

1- سماجیات سے کیا مراد ہے؟

جواب _____

2- ہندوستان میں پہلی مرتبہ سماج کا تنظیمی مطالعہ کرنے والے کون تھے؟

جواب _____

3- سماجیات تاریخ کی کس طرح مدد کرتا ہے؟

جواب _____

V- میں کون ہوں۔

1- اشارے

1- میں فرانس میں پیدا ہوا ہوں۔

2- مجھے بابائے سماجیات کہا جاتا ہے۔

جواب-----

2- اشارے

1- میں ہندوستان کا مشہور ماہر سماجیات ہوں۔

2- میں، جی، لیس گھرنے کا شاگرد ہوں۔

3- کنسنٹ اینڈ آرگنائزیشن ان انڈیا اور انڈین سوسائٹی کا مصنف ہوں

جواب-----




3- اشارے

1- میں نے پچھڑے طبقات کے استحصال کے خلاف احتجاج کیا ہے۔

2- موک نایک نامی رسالہ شائع کیا ہے۔

جواب-----

طالب علم کا خود کا محاسبہ

نمبر شمار	اکتسابی اشارے			
1	سماجیات کا مفہوم کو جاننا ہے			
2	غیر ملکی سماجی ماہرین کے ناموں کو جاننا ہے			
3	ہندوستان کے سماجی ماہرین کی دین کو جاننا ہے			

معلم کی رائے (✓ نشان لگائیں)

	اوسط		بہتر		بہترین
--	------	--	------	--	--------

دستخط برائے معلم۔

باب 2- تہذیب

I- نیچے دئے گئے لفظوں کو صحیح ترتیب سے جوڑ کر با معنی الفاظ بناؤ۔

- 1- یب، دی، تہذ، ما۔ جواب-----
- 2- یت، شہر۔ جواب-----
- 3- کا، خیر، ذ، ما، معلو۔ جواب-----
- 4- یب، طرز، تہذ، عمل۔ جواب-----
- 5- مادی، تہذ، غیر، یب۔ جواب-----

II- خالی جگہوں کو مناسب الفاظ سے پر کرو۔

- 1- کو لیر----- زبان کا لفظ ہے۔
- 2- مادی تہذیب----- سے بنی ہے۔
- 3- سوگی کے بعد نظر آنے والے اہم تہذیبی عمل----- ہیں۔
- 4- تہذیب اور----- ایک سکہ کہ دو پہلو ہیں۔

III- مندرجہ ذیل سوالوں کے جوابات تین چار جملوں میں لکھو۔

1- تہذیب معلومات کا ذخیرہ ہوا کرتی ہے۔ کیوں؟

جواب-----

2- میلے سماجی تعلقات کو کیسے مضبوط کرتے ہیں؟

جواب-----

2- تہذیب کے اقسام لکھو؟

جواب۔

3- شمالی کرناٹک اور جنوبی کرناٹک کے غذائی عادات الگ الگ ہیں۔ یہ تہذیب کے کس جزء کو ظاہر کرتا ہے؟

جواب۔

4- اقدار سے کیا مراد ہے؟

جواب۔

V- نوٹ لکھو۔

1- میلے

جواب۔

2- اقدار

جواب۔

V- میں کون ہوں۔

1- اشارے

میں سماجی ماہر ہوں۔ انسان نے اپنی زندگی کے مقاصد کی تشکیل کی خاطر جو آلہ تخلیق کیا ہے۔ وہ تہذیب ہے۔ یہ بتایا ہے

میں کون ہوں۔ سوچو




جواب۔

2- اشارے

تہذیب وہ پیچیدہ مجموعہ ہے۔ جو اپنے اندر معلومات، عقیدہ، فن، اصول و قوانین، رسوم اور رواج اور تمام صفات رکھتا ہے یہ بتایا ہے۔ میں کون ہوں۔

جواب۔

طالب علم کا خود کا محاسبہ

نمبر شمار	اکتسابی اشارے			
1	تہذیب کا مفہوم اور نوعیت کو جاننا ہے			
2	تہذیب کے خصوصیات کو جاننا ہے			
3	تہذیب میں ماجی روم اور تضادات کو جاننا ہے			

معلم کی رائے (✓ نشان لگائیں)

	اوسط		بہتر		بہترین
--	------	--	------	--	--------

دستخط برائے معلم۔

Geography جغرافیہ

باب 1- زمین۔ ہمارا ہائٹی سیارہ

I۔ خالی جگہوں کو مناسب جوابات کی مدد سے پر کیجئے

1۔ زمین کا کل جغرافیائی حصہ _____ مربع کلومیٹر ہے۔

2۔ زمین _____ شکل کی ہے۔

3۔ زمین کا خط استوائی اور قطبی علاقہ _____ اور _____ کلومیٹر ہے۔

II۔ درج ذیل سوالات کے جوابات صرف ایک جملے میں دیجئے

1۔ $23\frac{1}{2}$ شمالی عرض البلد کو کیا کہا جاتا ہے؟

جواب _____

2۔ ہندوستانی معیاری وقت کی بنیاد کس فرضی خط پر ہے؟

جواب _____

3۔ زمین کا کل کتنے فیصد جغرافیائی حصہ زمینی حصہ ہے؟

جواب _____

4۔ کونا سمندر سب سے چھوٹا اور سطحی سمندر (کم گہرا) ہے؟

جواب _____

III۔ مناسب جوابات کا انتخاب کر کے درج ذیل کی خانہ پوری کیجئے۔

1۔ دو عرض البلد کے درمیان _____ کلومیٹر روئے زمین پر کا فاصلہ ہے۔

(a) 114.1 کلومیٹر (b) 115.2 کلومیٹر (c) 110.4 کلومیٹر (d) 110 کلومیٹر

جواب _____

2۔ طول بلد کو _____ بھی کہتے ہیں۔

(a) دن (b) نصف نہر (c) رات (d) نصف شب

جواب _____

3۔ 0°C (صفر درجہ ڈگری) مرکزی طول البلد _____ سے ہو کر گزرتی ہے۔

(a) گرین وچ (b) الہ آباد (c) ممبئی (d) لندن

جواب _____

6. اہم عرض البلد کی فہرست بنائیں؟

جواب۔

۷۔ درج ذیل کو سمجھ کر لکھیے۔

1۔ سیارہ:

جواب۔

2۔ خط استوا

جواب۔

3۔ زمینی شکل (ساخت):

جواب۔

4. براعظم۔

جواب۔

5. سب سے بڑا نصف النہار۔




جواب۔

6۔ ہندوستانی معیاری وقت۔

جواب۔

VI۔ گلوب کی ایک خوبصورت شکل نکال کر اہم عرض بلد اور طول بلد کی نشاندہی کیجئے۔

طالب علم کا خود کا محاسبہ

نمبر شمار	اکتسابی اشارے			
1	تہذیب کا مفہوم اور نوعیت کو جانا ہے			
2	تہذیب کے خصوصیات کو جانا ہے			
3	تہذیب میں ماجی روم اور تضادات کو جانا ہے			

معلم کی رائے (✓ نشان لگائیں)

	بہترین		بہتر		اوسط	
--	--------	--	------	--	------	--

دستخط برائے معلم۔

جغرافیہ

باب 2- کرہ ہجری (لیتھو سفیر)

I- درج ذیل تصورات کو سمجھ کر اپنے الفاظ میں لکھئے۔

1- چٹان۔

جواب۔

2- آتش فشاں۔

جواب۔

3- تبدیلی ہیئت والی چٹانیں

جواب۔

4- کرہ ہجری۔

جواب۔

5- زلزلہ۔

جواب۔

II- درج ذیل جملوں کو درست کر کے لکھئے۔

1- زمین کی اندرونی ساخت کو پانچ اہم حصوں میں تقسیم کیا گیا ہے؟

جواب۔

2- آتشی یا نازی چٹانوں کو دوسری قسم کی چٹانیں کہتے ہیں۔

جواب۔

3- چونے کا پتھر ہیرے میں تبدیل ہوتا ہے۔

جواب۔

4- آبشار زیر زمین پانی کے جنبش سے پیدا ہوتے ہیں۔

جواب۔

5- کرناٹک کے ضلع شیموگہ میں سمندری لہروں کی جنبش کو دیکھ سکتے ہیں۔

جواب۔

III- دئے گئے اشاروں میں سے صحیح اشارے کا انتخاب کر کے لکھئے۔

I- اشارے

1- انتہائی تباہ کن اور اونچی لہروں سے بنی ہوتی ہیں۔

2- سمندری کناروں کو کافی نقصان پہنچاتی ہیں۔

3- بحیریا سمندر کی سطح زمین میں زلزلے سے پیدا ہوتے ہیں۔

جواب۔

2- اشارے۔

1- یہ چٹانیں پانی، ہو اور خالی وادی کے فطری عمل سے بنتی ہیں۔

2- ان کی بناوٹ میں پانی اہم کردار ادا کرتا ہے۔

3- انہیں آتشی یا نازی چٹانیں بھی کہتے ہیں۔

جواب۔

3- اشارے

1- یہ زمین کی گہرائی میں میگما سے بنی ہوئی ہوتی ہیں۔

2- اس زمینی پرت کا زیادہ تر حصہ مائع اور ٹھوس حالت میں ہوتا ہے۔

3- یہ زمین کی گہرائی میں پائی جانے والی دوسری اور درمیانی پرت ہے۔

جواب۔

IV۔ درج ذیل میں گروپ سے نہ تعلق رکھنے والے لفظ کو چن کر لکھئے۔

- 1۔ بھوچپو، غلاف ارض، موہو، کرہ مرکز جواب-----
- 2۔ گراناٹیٹ، ڈولورائیٹ، بسالٹ پتھر، ریتیل پتھر جواب-----
- 3۔ میگما، کونکہ کی راکھ، آبی بخارات، آکسیجن جواب-----
- 4۔ مونٹ ویسوی لیس، کرکالٹو، مونٹ پی لے، مونٹ ایوریسٹ جواب-----
- 7۔ دئے گئے اشارے کی مدد سے الفاظ کا احرام مکمل کیجئے۔

1۔ کرہ ارض کی زیر زمین پر تین (عدد لکھئے)

2۔ مختلف قسم کی معدنیات کا مرکب


3۔ کرہ ارض کی زیر زمین پر توں میں سب سے اوپری پرت

4۔ زمین کی اوپری سطح پر نقصان پہنچانے والی قوت

5۔ آتش فشاں چٹانوں کی دوسری قسم

6۔ جاپان کے لوگ جس آتش فشاں کی پوجا کرتے ہیں۔

7۔ زمین کی اوپری پرت کو اس نام سے بھی پکارا جاتا ہے۔



VI۔ مناسب جوڑ لگائیے۔

جوابات	(ب)	(الف)
-----	(a) "V" شکل والی ودی، بالائی گزرگاہ	1۔ ندی
-----	(b) شلجی ملبہ میقاتی چٹان	2۔ گلشیر
-----	(c) آبگیرہ مسام دار چٹان	3۔ زیر زمین پانی
-----	(d) برخان	4۔ ہوائیں
-----	(e) پہاڑ	5۔ مندری لہریں

VII۔ درج ذیل سوالات کے جوابات دو یا تین جملوں میں دیجئے۔

1۔ کرہ حجری کی اہمیت بتائیے؟

جواب-----

2۔ نامیاتی آتشی چٹانیں کیسے بنتی ہیں؟

جواب-----

3۔ آتشی فشاں اور زلزلے میں پائے جانے والے کوئی تین فرق بتائیے؟

زلزلے	آتشی فشاں

VIII۔ پہلی جوڑی کی مناسبت سے دوسری جوڑی مکمل کیجئے۔

- 1۔ الو نیم : بھوچپو :: بکل : _____
2۔ کونکہ : گرافائیٹ :: چونے کا پتھر : _____
3۔ اسٹرامبولی : سرگرم آتش فشاں :: اکازکاگوا : _____
4۔ ثانوی لہریں : ابتدائی لہریں :: سطح کی لہریں : _____

IX۔ درج ذیل پر مختصر نوٹ لکھیں۔

1۔ غلاف ارض

جواب۔




2۔ نامیاتی چٹانوں کی بناوٹ

جواب۔

X۔ دی گئی خالی جگہ میں آتش فشاں کا صاف ستھرا خاکہ کھینچ کر حصوں کے نام لکھئے۔

--

طالب علم کا خود کا محاسبہ

نمبر شمار	اکتسابی اشارے			
1	میں زمین کی اندرونی ساخت کے بارے میں جان چکا/چکی ہے ہوں			
2	قطب ارض کی قوتوں کی نشاندہی کر سکتا/سکتی ہوں			
3	میں عریانیہ کے کارندوں کے نام بتا سکتا ہوں/سکتی ہوں			

معلم کی رائے (✓ نشان لگائیں)

	بہترین		بہتر		اوسط
--	--------	--	------	--	------

دستخط برائے معلم _____

3۔ لوگ اقتصادی سرگرمیاں کیوں اختیار کرتے ہیں؟

جواب۔

4۔ افراط زر یا قیمتوں کا بڑھنے پر قابو پانے کے لئے مطلع کرنے والی معاشیاتی شاخوں کی نشاندہی کیجئے؟

جواب۔

5۔ پیداوار کے عناصر (عوامل) کی نشاندہی کیجئے؟

جواب۔

6۔ حکومت عوام اور ملک کی فلاح بہبودی کی سدھار کے لئے معاشیات کس طرح مدد کرتی ہے؟

جواب۔

7۔ مندرجہ ذیل سوالوں کے تین یا چار جملوں میں جواب لکھئے۔

1۔ وسیع تر اقتصادیات یا کبیرہ معاشیات کے دائرہ کار کی وضاحت کیجئے؟

جواب۔




2- خرد معاشیات یا مائیکروفینانس کی وضاحت کیجئے؟

جواب۔

3- کسان فصلوں کو اگانے (پیداوار) کے لئے استعمال کرنے والے عوامل کی فہرست بنائیے۔

جواب۔

طالب علم کا خود کا محاسبہ

نمبر شمار	اکتسابی اشارے			
1	مجھے معاشیات کے متعلق معلومات حاصل ہوئی۔			
2	معاشیات کے دو شعبوں کے بارے میں معلومات حاصل ہوئی			
3	بنیادی معاشی مسائل کے بارے میں سمجھنا			

معلم کی رائے (✓ نشان لگائیں)

	اوسط		بہتر		بہترین
--	------	--	------	--	--------

دستخط برائے معلم۔

باب 2۔ معیشت کے معنی اور قسمیں

I۔ مندرجہ ذیل خالی جگہوں کو مناسب الفاظ کی مدد سے پُر کیجئے۔

- 1۔ معاشی سرگرمیاں انجام دینے کا بنیادی مقصد۔
- 2۔ غیر قانونی معاشی سرگرمی کی ایک مثال۔
- 3۔ بھارت میں پالیسی کمیشن۔

II، مندرجہ ذیل سوالات کے جوابات ایک لفظ یا جملہ میں دیجئے۔

1۔ معیشت کی سب سے اہم سرگرمیاں کیا ہیں؟

جواب۔

2۔ پیداواری کسے کہتے ہیں؟

جواب۔

3۔ کسی ایسی تنظیم کا نام بتائیں جو افراد اور اقوام کی جدید معاشی سرگرمیوں کو باقاعدہ بنائے؟

جواب۔

III۔ درج ذیل کے لئے فرق لکھو

تجربہ کاری

1۔ پیداواری

سوشلسٹ معیشت		2۔ سرمایہ دارانہ معیشت
ترقی پذیر ملک	ترقی یافتہ ملک	3۔
نجی شعبہ	عوامی شعبہ	4۔
<p>IV۔ مندرجہ ذیل سوالات کا مختصر جواب دیں۔</p> <p>1۔ سرمایہ کی واپسی کسے کہتے ہیں؟</p> <p>جواب۔</p> <p>-----</p> <p>-----</p> <p>-----</p>		




2- عوامی شعبہ منافع بخش نہیں ہے۔ کیوں؟

جواب

3- ہندوستان مخلوط معیشت کی ایک عمدہ مثال ہے۔ کیسے؟

جواب

طالب علم کا خود کا محاسبہ

نمبر شمار	اکتسابی اشارے			
1	میں معیشت کی اقسام سے واقف ہو گیا/ گئی			
2	میں نے عوامی معیشت کی خصوصیات کے بارے میں سیکھا۔			
3	سرما یا دارانہ اور سوشلسٹ میں پائے جانے والے			

معلم کی رائے (✓ نشان لگائیں)

	بہترین		بہتر		اوسط	
--	--------	--	------	--	------	--

دستخط برائے معلم

تجارتی تعلیمات Business Studies

باب 1- تجارتی مطالعہ کی اکائیاں

I- مناسب الفاظ سے خالی جگہ پُر کریں۔

1- خوردہ فروشوں کو----- سے اشیاء ملتی ہیں۔

2- کاروبار انسان کا----- ہے۔

3- جو شخص تاجر سے سامان وصول کرتا ہے اسے----- کہا جاتا ہے۔

II- کاروباری ارتقاء کے مراحل کو بڑھتی ترتیب میں لکھئے۔

مناسب بڑھتی ہوئی کاروائی

مرحلہ

1- مویشی پالنہ کا مرحلہ

2- دستکاری کا مرحلہ

3- پیسہ کی معیشت کا مرحلہ

4- بین الاقوامی بیوپار کا مرحلہ

5- شہری اقتصادی کا مرحلہ

6- تبادلہ کا مرحلہ

7- ذراعتی یا کاشت کاری کا مرحلہ

8- شکار بازی اور مچھلی پکڑنے کا مرحلہ

III- ایسا لفظ منتخب کریں جس کا تعلق مندرجہ ذیل گروپ سے نہ ہو۔ ایسے لکھیں۔

1- وکلاء (وکیل)، ڈاکٹر، اڈیٹر، زراعتی مزدور

جواب-----

2- کاروبار، تعلیم، زراعت، نقل و حمل

جواب-----

3- بڑھتی، نقل و حمل، بینکنگ، انشورنس سروس

جواب-----

نمونہ سوالیہ پرچہ 1 MODEL QUESTION PAPER 1

I۔ مندرجہ ذیل میں چار متبادل جوابات دئے گئے ہیں ان میں مناسب جواب شن کر لکھیں۔

1۔ کلہنکا کا ادبی کام

(a) ہر ش چریتا (b) راج ترنگینی (c) پرتھوی راج راسو (d) وکرمارجن وجیہ

جواب-----

2۔ پولیس-----

(a) فرانسی لفظ (b) لاطینی لفظ (c) گرک لفظ (d) سنسکرت لفظ

جواب-----

3۔ عرض البلد (طول البلد) لکیریں----- کی لکیریں کہا جاتا ہے

(a) صبح (دن کی روشنی) (b) دوپہر (c) رات (d) درمیانی رات

جواب-----

II۔ نیچے دئے گئے سوالوں کے جواب ایک جملہ میں لکھئے۔

1۔ معاشی سرگرمی کیا ہے؟

جواب-----

2۔ "سماجیات سماجی اداروں کا مطالعہ ہے" یہ کس نے کہا

جواب-----

3۔ ہندوستان کو متبادل جزیرہ کہنے کی کیا وجہ ہے؟

جواب-----

III۔ نیچے دئے گئے سوالوں کے جواب دو تین جملوں میں لکھئے۔

1۔ زبانی ادب کیا ہے؟ مثال دیجئے؟

جواب-----

2۔ ہندوستان کے اہم ماہرین معاشیات کے نام لکھئے؟

جواب۔

IV۔ نیچے دئے گئے سوالوں کے جوابات پانچ چھ جملوں میں لکھئے۔

1۔ سیاسی سائنس کے مطالعہ کی کیا اہمیت ہے؟

جواب۔

2 کسان فصلوں کو اگانے (پیداوار) کے لئے استعمال کرنے والے عوامل کی فہرست بنائیے۔

جواب۔

۷۔ نیچے دئے گئے سوال کا جواب آٹھ دس جملوں میں لکھئے۔

1۔ رگ وید دور کے مذہبی خدمات کے بارے میں لکھئے۔

جواب۔

نمونہ سوالیہ پرچہ 2 MODEL QUESTION PAPER

I۔ جوڑ لگائیں۔

الف	ب	جوابات
1۔ فیتھوگورس	a۔ باواپوری	-----
2۔ زمین کاخول	b۔ کولرے	-----
3۔ مہاویر	c۔ ریاضی دان	-----
4۔ ثقافت	d۔ زمین کی اوپری پرت	-----

II۔ گروہ سے غیر تعلق رکھنے والا لفظ چن کر لکھئے۔

1۔ گرانیت، ڈولورائٹ، بیسالت، مٹی کا پتھر (ریت کا پتھر)

جواب-----

2۔ کاروبار، پیشہ، روزگار، بے روزگار

جواب-----

III۔ نیچے دئے گئے سوالوں کے جوابات دو تین جملوں میں لکھئے۔

1۔ چینی تہذیب کی انوکھی پیش کش کیا ہے؟

جواب-----

2۔ مہاویر کے پانچ عہد کے بارے میں لکھئے؟

جواب-----

IV۔ نیچے دئے گئے سوالوں کے جوابات پانچ چھ جملوں میں لکھئے۔

1۔ یونانیوں کی فن اور فن تعمیر میں کیا خدمات ہیں؟

جواب۔

2۔ کرناٹکا پبلک سروس کمیشن کے کام بتائیے۔

جواب۔

3۔ آتش فشاں پھٹنے کی تصویر نکال کر حصوں کے نام لکھئے؟

