



سماجی سائنس مشقیہ (ورک بُک)

حصہ اول

7

جماعت ہفتم

2020 - 21

نام: _____

اسکول کا نام: _____

ریاستی تعلیمی تحقیقی اور تربیتی محکمہ
نمبر 4-100 فٹ رنگ روڈ، بنشکری 13 سیٹج،

بنگلور و۔ 560085

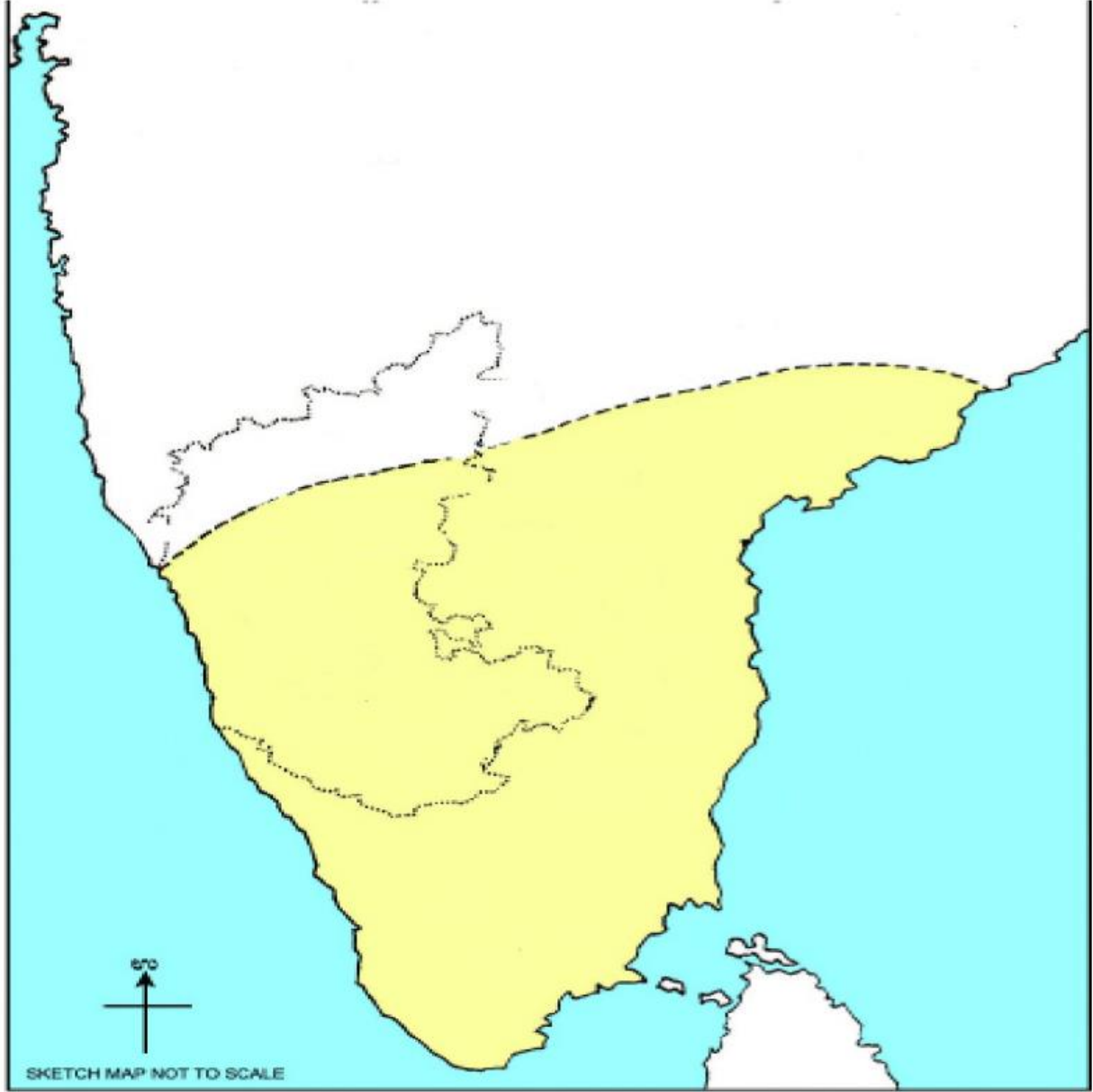


حصہ اول
فہرست مضامین

صفحہ نمبر	اسباق کے نام	شمار نمبر
تاریخ		
01	سلطنت وجیانگر	01
06	بہمنی عادل شاہی	02
09	بھکتی پنتھ اور صوفی روایات	03
15	نائیکا۔ پالے گار اور صوبائی حکمران	04
20	میسور کے وڈیر خاندان	05
24	سلاطین دہلی	06
32	مغلیہ دور	07
36	مرہٹہ	08
شہریت		
40	ہمارا دستور	10
46	بنیادی حقوق اور فرائض	11
49	ریاست کے ہدایتی اصول	
جغرافیہ		
52	شمالی امریکہ پرائریس کی سرزمین	12
57	جنوبی امریکہ اینڈیز کی سرزمین	13

۷۔ نقشہ میں مندرجہ ذیل کی نشاندہی کیجئے۔

1۔ منگور، 2۔ رانچور، 3۔ کونڈہلی، 4۔ مدھورے، 5۔ تاڈپتری، 6۔ تیروپتی



۷۱۔ منصوبہ بندی

وجیہ نگر دور حکومت میں تعمیر کردہ عمارتوں کی تصاویر کا الم بنائے۔

۷۱۱۔ سرگرمی؛ وجیہ نگر سلطنت کے علاقوں کی تعلیمی سیر کیجئے۔

باب نمبر 2
بہمنی عادل شاہی

1۔ دئے گئے واقعات کو تاریخی لحاظ سے مرحلہ وار کیجئے۔

- 1۔ گول گنبد کی تعمیر
جواب-----
- 2۔ بیدر میں مدرسہ تعمیر کیا
جواب-----
- 3۔ ابراہیم روضہ کی تعمیر
جواب-----
- 4۔ بہمنی سلطنت کی بنیاد
جواب-----

II۔ فہرست، الف، کو فہرست۔ ب، مناسب جوڑ لگائیں

جوابات	ب	الف
-----	(a) تاریخ فرشتہ	1۔ ابراہیم عادل شاہ دوم
-----	(b) کتاب نورس	2۔ تورے زراہری
-----	(c) علی نامہ	3۔ فرشتہ
-----	(d) تورے رامائن	4۔ عبداللہ
-----	(e) ابراہیم نامہ	5۔ ملا نصرتی
-----	(f) جامعہ مسجد	

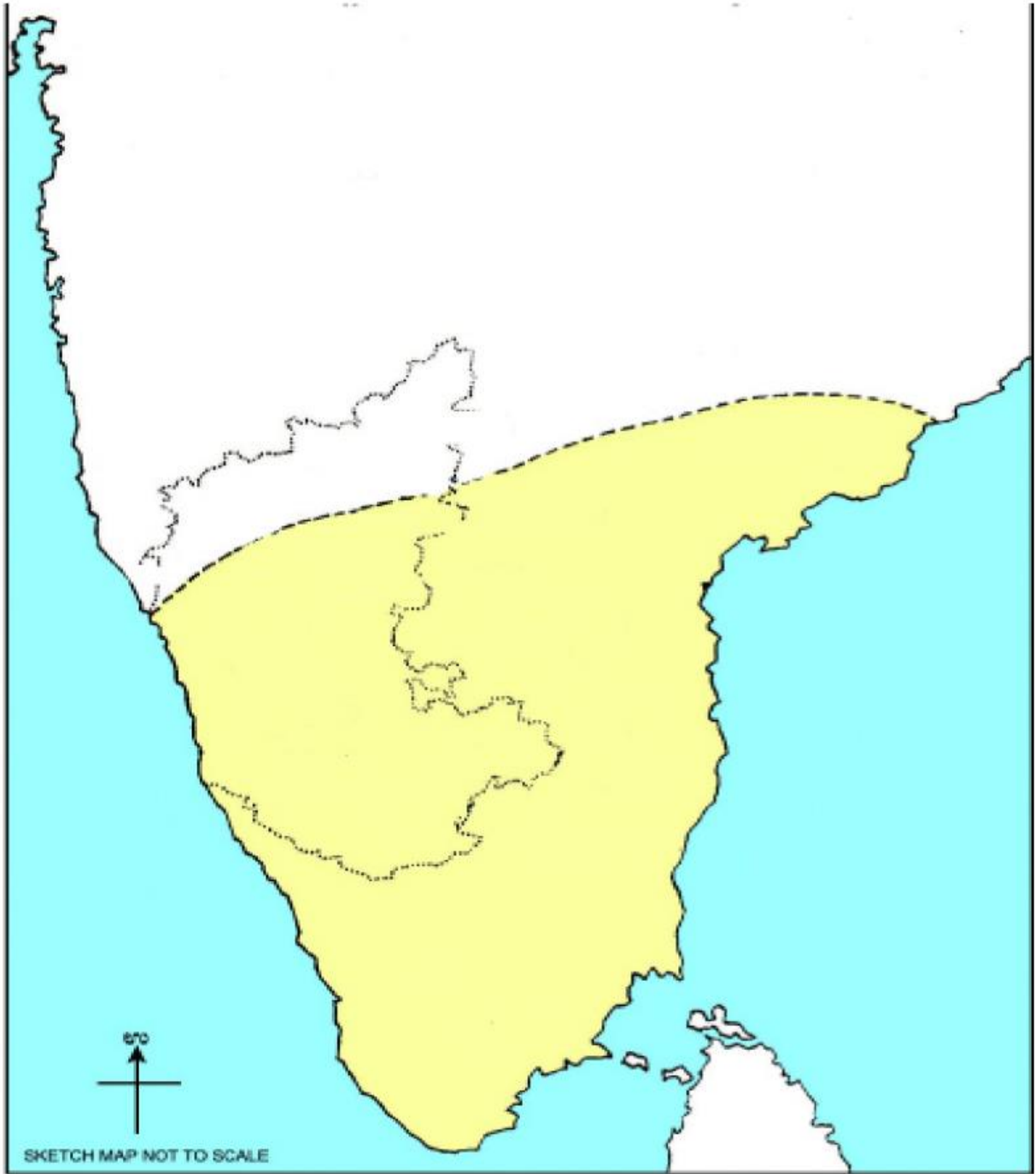
III۔ خالی جگہ کو مناسب الفاظ سے پر کرو۔

- 1۔ کرناٹک کی پہلی مسلم سلطنت----- تھی۔
- 2۔ بہمن شاہ نے دہلی کے سلطان----- کی فوج میں خدمات انجام دی۔
- 3۔ محمد شاہ سوم کا مشہور وزیر اعلیٰ----- تھا۔
- 4۔ برار کے عماد شاہی کا صدر مقام----- تھا۔

بہمنی عادل شاہی دور کے فن تعمیرات کے تصاویر اکٹھا کر کے مختصر طور پر وضاحت لکھئے۔

VIII- نیچے دئے گئے نقشہ میں درج ذیل مقامات کی نشان دہی کریں۔

1- وجئے نگر 2- کلبرگی 3- احمد نگر 4- تالی کوٹہ



باب نمبر 3

بھکتی پنتھ اور صوفی روایات

1- مندرجہ ذیل سوالات کے جوابات ایک جملہ میں لکھئے۔

1- پرندرداس کا پیدائشی مقام کونسا ہے؟

جواب-----

2- "دوہے" کی ایک علامت کو سمجھائیں؟

جواب-----

3- تلسی داس کی لکھی ہوئی تصانیف کے نام؟

جواب-----

4- سکھ مذہب کے بانی کون تھے؟

جواب-----

5- چچی تینانے دنیا کو کونسا پیغام دیا؟

جواب-----

11- مناسب جواب کی مدد سے خالی جگہ پر کرو۔

1- آئڈل کی قابل احترام بخت-----ہوا کرتے تھے۔

2- خواجہ بندہ نواز-----کے شاگرد تھے۔

3- پرندرداس-----کے نام سے اپنی کتاب میں کئی کیرتنوں کو تحریر کیا۔

4- کبیر داس کے ماننے والوں کو-----کہہ کر بلاتے ہیں۔

5- "رام چرتاماںسا" نامی کتاب-----زبان ادب کی مشہور تصانیف ہے۔

III۔ فہرست "الف" سے فہرست "ب" سے جوڑ لگا کر جواب لکھئے۔

جوابات	ب	الف
1-----	ا۔ تلپنڈی	1۔ میرا بانی
2-----	ب۔ اصول	2۔ اکامہادیوی
3-----	ج۔ گری دھر گوپال	3۔ گرونانک
4-----	د۔ کدڑی ون	4۔ تلسی داس
5-----	ق۔ شیشونال شریف	5۔ رام بھکت
	ط۔ وشنو بھکت	

IV۔ پہلے دو لفظوں کی مناسبت سے تیسرے لفظ کی مناسبت کے تعلق لکھئے۔

1۔ پرندر داس	:	سری نواس نانک	::	کنک داس	:	-----
2۔ کبیر داس	:	دوہے	::	میرا بانی	:	-----
3۔ صوفی	:	صاف	::	بھکتی	:	-----
4۔ معین الدین چشتی	:	چشتی تحریک	::	نظام الدین اولیاء	:	-----
5۔ کنک داس	:	وائے سرائے	::	شیشونال شریف	:	-----

V۔ مندرجہ ذیل سوالات کے جوابات دو تین جملوں میں لکھئے۔

1۔ تمام انسان یکساں اصول بھکتی پنتھ میں کیسے ثابت ہوا؟

جواب۔

2۔ "ہندو۔ مسلم ایک ہی مٹی سے بنے ہوئے" کبیر داس کے اس جملہ کو کیسے یقین دلائینگے؟

جواب۔

VII۔ مندرجہ ذیل میں دئے گئے معممہ میں بھکتی سنتوں کے نام تلاش کر کے لکھو۔

د	پ	پ	ر	س	ا	ے	ن	ت	ی	چ
ف	ے	ر	ش	ل	ا	ن	و	ش	ے	ش
م	ل	ن	ل	گ	ک	پ	گ	ن	ک	آ
ب	و	د	م	ر	ن	ک	ت	ب	م	ن
ف	ل	ر	ت	و	ک	د	ل	چ	د	ڈ
ا	د	د	ر	ن	ا	ل	س	ک	ی	ا
ت	ک	ا	س	ا	د	ر	ی	ب	ک	ل
ن	ش	س	ب	ک	ا	چ	د	ی	ب	گ
و	گ	و	ن	گ	س	ف	ا	ک	س	ا
د	چ	آ	ت	ر	ی	ک	س	ل	ے	چ

-----5

-----6

-----7

-----8

-----1

-----2

-----3

-----4

VIII۔ سرگرمیاں

1۔ بھکتی تحریک کے سنتوں کی تصاویر تفصیلات کے ساتھ اکٹھا کریں۔

2۔ میرا بانی کے بھجنوں کو اکٹھا کر کے سیکھئے۔

IX۔ منصوبہ (پروجیکٹ)

اہم مذہبی مراکز کو ملاحظہ فرما کر اپنے تجربہ کے پس منظر میں مختلف صحیفے کو اکٹھا کریں۔

۷۔ خلاصہ لکھئے۔

1۔ رکس تنگڑی جنگ۔

2۔ محمود گادواں کا تعمیر کردہ مدرسہ۔

طالب علم کا خود سے محاسبہ

نمبر شمار	سکھنے کے اشارے / مہارت	ہاں	نا
1	وجہ نگر راجاؤں کے کارناموں اور مذہبی ادبی رواداری کو بچانے اور روشن کرنے کی فعالیت کو سراہتا ہے		
2	بہن اور وجہ نگر بادشاہوں کی ادبی، فن اور فن تعمیرات کو دی ہوئی خدمات کی عزت کرتا ہے		
3	بھکتی تحریک سنتوں کی تعلیمات سماج پر ان کے اثرات موجودہ دور میں ان کی ضرورت کو سمجھ سکتا ہے		

استاد کی رائے

	بہترین
	بہتر
	اوسط

3- عوامی مشفق _____ راجہ کالقب تھا۔

(a) بڑے کیمپے گوڈا (b) شیوپانائیک (c) کیمپے گوڈا دوم (d) راج ویرمد کری نائیک

4- چتردرگہ سلطنت کا پہلا بادشاہ _____ تھا۔

(a) راج ویرمد کری نائیک (b) ہرے مد کری نائیک (c) کستوری چکنائیک (d) متی شیونائیک

III- ہر سوال کے جواب دو یا تین جملوں میں دیجئے۔

1- شیوپانائیک کے کارناموں کی فہرست بناؤ؟

جواب _____

2- رانی چنہاجی کے شجاعت کے متعلق لکھئے؟

جواب _____

3- آنکے اوبوا آج بھی کنڑالوگوں کے دلوں میں موجود ہے وجہ بتاؤ؟

جواب _____

4- بڑے کیمپے گوڈا بنگلور میں بنائے گئے تالاب کا نام بتائیے؟

جواب۔

IV- مندرجہ ذیل سوالات کے جوابات چار یا پانچ جملوں میں لکھئے۔

1- "بنگلور شہر کی تعمیر میں یلہنکا صوبائی حکمران کی دین بے مثال" اس رائے کی وجہ بتاؤ؟

جواب۔

2- حیدر علی کے حملوں سے چتردرگہ نائیک زوال پذیر ہوئی۔ بیان کیجئے؟

جواب۔

VI- تاریخ وار لکھنے یا سلسلہ وار لکھنے۔

1- بڑے کیمپے غوڈا

2- کیمپے گوڈا سوم

3- کیمپے گوڈا دوم

4- بڑے کیمپے گوڈا دوم

جوابات۔

-----1

-----2

-----3

-----4

VII- منصوبہ

چتردرگہ قلعہ سے متعلق تاریخی تصاویر اور معلومات اکٹھا کر کے الیم تیار کیجئے۔

VIII- سرگرمیاں

1- کیلادی، چتردرگہ، بنگلور، سرپور علاقوں پر تعلیمی سفر کر کے تجربات لکھئے۔

2- یلہنکا کے علاقائی حکمران، بنگلور اور اسکے اطراف و اکناف بہت سارے تالاب تعمیر کروائے تھے۔ لیکن آج بہت سارے

تالاب گم ہو گئے ہیں۔ اسکے انجام پر بحث کرتے ہوئے رپورٹ تیار کیجئے۔

IX- کتب خانہ کا جائزہ

کیلادی نائیک اور چتردرگہ نائیک کے تعلقاتی کتابوں کا مطالعہ اور معلومات کو دستوں سے بحث کرو۔

III۔ پہلے دو لفظوں کی مناسبت سے تیسرے لفظ کی مناسبت کے تعلق لکھئے۔

1۔ پہلی اینگلو میسور جنگ : مدراس معاہدہ :: دوسری اینگلو میسور جنگ : _____:

2۔ تیسری اینگلو میسور جنگ : 1790-1792 :: چوتھی اینگلو میسور جنگ : _____:

3۔ مارک کبن : سن 1834ء :: لوئی سینتھام بورنگ : _____:

IV۔ مندرجہ ذیل سوالات کے جوابات ایک جملہ میں لکھئے۔

1۔ ریاست میسور کے پہلے وزیر اعلیٰ کون تھے؟

جواب۔ _____

2۔ "صنعت و حرفت یا خاتمہ" کہنے والے میسور کے دیوان کا نام بتائیے؟

جواب۔ _____

3۔ میسور ریاست پر حکومت کرنے والے آخری راجہ کون تھے؟

جواب۔ _____

4۔ اینگلو میسور جنگ سے کیا مراد ہے؟

جواب۔ _____

V۔ ہر سوال کے دو یا تین جملوں میں جوابات لکھئے؟

جواب۔ _____

VII- میسور کے وڈیر زمانے کے مصنف، موسیقی کار، اور مصوروں کی تصاویر اکٹھا کر کے البم تیار کیجئے۔

VIII- میسور اور سری رنگاپٹن کے تاریخی اور قابل نظارہ جگہوں کی تعلیمی سفر کیا ہو تو اپنا تجربہ لکھو۔

باب نمبر 6
سلاطین دہلی

سوال 1۔ صحیح جواب چن کر جوابات کی فہرست میں درج کریں۔

1۔ محمد غوری کی وفات کے بعد دہلی کے سلطان کے طور پر آزادانہ حکومت کا آغاز کرنے والا سلطان۔

(a) علاء الدین خلجی (b) قطب الدین ایبک (c) محمد بن تغلق (d) التمش

2۔ منشیات کے استعمالات اور جو بازی پر پابندی عاید کرنے والا دہلی کا سلطان۔

(a) علاء الدین خلجی (b) ابراہیم لودھی (c) قطب الدین ایبک (d) امیر حسن

3۔ دیوگیری کا تبدیل کیا گیا نام۔

(a) دہلی (b) الہ آباد (c) سری (d) دولت آباد

4۔ "جیسی" شاعر نے بدھماوت نامی صوفی نظم کس زبان میں لکھی۔

(a) دکنی (b) اردو (c) فارسی (d) عربی

5۔ صدر مقام کے تبادلہ سے جنوبی ہندوستان پر اختیار (نظم و ضبط) حاصل کر سکتے ہیں۔ یہ خیال (عقیدہ) رکھنے والے سلطان۔

(a) علاء الدین خلجی (b) قطب الدین ایبک (c) محمد بن تغلق (d) امیر خسرو

جوابی فہرست بناؤ۔

سوال نمبر	A	B	C	D
1	<input type="radio"/>	<input type="radio"/>	<input type="radio"/>	<input type="radio"/>
2	<input type="radio"/>	<input type="radio"/>	<input type="radio"/>	<input type="radio"/>
3	<input type="radio"/>	<input type="radio"/>	<input type="radio"/>	<input type="radio"/>
4	<input type="radio"/>	<input type="radio"/>	<input type="radio"/>	<input type="radio"/>
5	<input type="radio"/>	<input type="radio"/>	<input type="radio"/>	<input type="radio"/>

IV فہرست الف اور فہرست ب میں جوڑ لگائیں

جوابات	(ب)	(الف)
-----	1- لودھی خاندان	1- علانی دروازہ
-----	2- مسجد	2- محمد غوری
-----	3- افغانستان	3- ابراہیم لودھی
-----	4- سندر دروازہ	4- مینار
-----	5- اونچا کھمبا	5- قوت الاسلام
	7- ہر سوالوں کے دو یا تین جملوں میں جواب لکھئے۔	

1- پانی پت کی پہلی جنگ نے دہلی سلطنت کے خاتمے اور مغل حکمرانی کے آغاز تک کس طرح کی قیادت کی؟

جواب-----

2- ہندوستان پر حملہ کرنے اے غیر ملکی حملہ آوروں کے ارادوں کی فہرست بنائیں؟

جواب-----

3- محمد غوری نے دہلی کو کیسے فتح کیا؟ وضاحت کریں؟

جواب۔

4- ان میں سے کون سے ہندوستانی علاقوں کو فتح کیا؟

جواب۔

5- دہلی سلطنت کے عقیدت مند سنتوں کا نام بتائیں؟

جواب۔

۷۱۔ نوٹ لکھیں

۱۔ خاندان غلامان

جواب۔

۲۔ ملک کافور

جواب۔

۳۔ علاؤالدین خلجی

جواب۔

4۔ دہلی سلطنت کے زمانے کے ادب

جواب۔

VII۔ سرگرمیاں

1۔ ہندوستان کے نقشے پر دہلی سلطنت کے تاریخی مقامات کی نشاندہی کریں۔

(d) پنجاب

(c) دیوگری

(b) پانیپت

(a) دہلی



2- اساتذہ کی مدد سے دہلی کا تعلیمی سفر

VIII- منصوبہ

1- مختصر معلومات کے ساتھ دہلی سلطنت کے مشہور معماروں کی تصاویر جمع کریں؟

IX- کتابیات

1- دہلی سلطنت کے بارے میں مزید معلومات جاننے کے لئے اپنی اسکول کی لائبریری دیکھیں۔

خود کا محاسبہ۔ 2

11۔ نیچے دیئے گئے متعدد انتخاب سوالوں کا صحیح جواب منتخب کریں۔

1۔ ہندوستان کی یونین میں حیدرآباد کے نظام کا شمولیت کا سال۔

17 A) اگست 1948 17 B) ستمبر 1948 17 C) اکتوبر 1948 17 D) جون 1948

2۔ ریاست میسور کا ابتدائی دارالحکومت

A) سری رنگ پٹن B) میسور C) بنگلورو D) دیوناہلی

3۔ "بھارت رتن" اعزاز حاصل کرنے والے پہلے کرناٹکی۔

A) سر مرزا اسماعیل B) ڈاکٹر بی آر امبیڈکر C) ڈاکٹر اے پی جے عبدالکلام D) سر ایم دیشویشوریہ

4۔ پانی پت کی پہلی جنگ میں ابراہیم لودھی کو شکست دینے والا۔

A) محمود غزنی B) پرتھوی راج چوہان C) بابر D) محمد غوری

11۔ تاریخ کے مطابق لکھیں۔

1۔ بڑے مکے گوڈا

2۔ میڈی مکے گوڈا

3۔ امیڈی مکے گوڈا

4۔ امیڈی بڑے مکے گوڈا

111۔ ہر سوالا جواب ایک جملے میں دیجئے۔

1۔ ٹیپو سلطان کی شہادت کے بعد میسور ریاست کس کے سپرد ہوئی۔

2۔ پندرہن سے کیا مراد ہے؟

3۔ اپنے آپ کو خدا کا نمائندہ کہنے والا دہلی سلطان کون تھا؟

4۔ دہلی سلطان کے دور میں دہلی کی واحد خاتون حکمران کون تھی؟

IV۔ ہر سوال کا جواب دو یا تین جملوں میں لکھئے۔

1۔ راج ویر مد کری نایکا کے متعلق مختصر نوٹ لکھئے۔

2۔ حیدر علی کے کارنامے بیان کریں۔

3۔ سلاطین دہلی کے خاندان کے نام بتائیے۔

4۔ علاؤ الدین خلجی کے اصلاحات کی فہرست تیار کریں۔

V۔ ہندوستان کا نقشہ کھینچ کر ریاست میسور کے تاریخی مقامات کی نشاندہی کیجئے،

1۔ میسور 2۔ شری رنگ پٹن 3۔ بنگلورو 4۔ مدراس

طالب علم کا خود سے محاسبہ

شمار نمبر	سیکھنے کے اشارے / مہارت	ہاں	نہیں
01	کیلا دی نائیکوں، پالیگاروں، اور چترادرگہ کے نائیکوں اور یلہنکا کے ناڈپر بھو کے بہادری اور کارناموں کی تعریف کریں		
02	حیدر علی اور ٹیپو سلطان کے کارنامے اور میسور وڈیر کی کامیابیوں کی تعریف کی گئی		
03	سلاطین دہلی کے حکومت سے ہندوستانی سماج، معیشت اور تہذیب پر ہونے والے اثرات جانیں گے		

استاد کی رائے

	بہترین
	بہتر
	اوسط

باب نمبر 7۔ مغلیہ دور

1۔ اکبر نے..... نئے مذہب کی بنیاد ڈالی۔

2۔ اکبر کے دربار کا مشہور موسیقی کار..... تھا۔

3۔ تلسی داس کا مشہور..... ہے۔

II۔ مثال کے مطابق مغلوں کے دور کے فن تعمیرات کی نشاندہی کیجئے۔

تا	ج	م	ح	ل	ن	پ	ع	ث	ا	ن	ا	ہ
م	ب	ی	ب	ی	ن	پ	با	د	ث	ل	ن	م
د	د	ر	ن	پ	ن	د	د	ی	ب	ل	ا	ا
ا	ک	ا	ق	ل	ن	ع	0	د	ا	ا	ن	ی
ب	ل	پ	د	ہ	ع	و	حا	ب	ل	ن	د	و
لا	م	ح	ل	ب	ی	ب	نا	ہ	ع	و	ا	ن
ب	ل	ن	د	د	ر	و	ا	ز	ہ	ن	ل	ک
د	د	ق	م	ب	ی	ب	ی	ن	پ	ن	د	ا
ب	ی	ب	ل	ل	پ	د	ب	ل	ن	د	ع	م
م	ح	ل	ن	ع	م	ح	ل	ن	پ	ل	ر	ق
آ	گ	ر	ا	ک	ا	ق	ل	ع	ا	ح	ا	ب
ج	ا	م	ع	م	س	ج	د	د	ا	ا	د	ر
ب	ی	ب	ی	ک	ا	م	ق	ب	ر	ہ	ع	ا

III۔ جوڑیاں بناؤ۔

الف	ب	جوابات
1۔ تاج محل	1۔ بھگوت گیتا کا ترجمہ کرنے والا
2۔ لال قلعہ	2۔ نقشی فن
3۔ دھارا شوکو	3۔ آگرہ
4۔ چکنی	4۔ دہلی
	5۔ امرت سر	

IIIV۔ بھارت کے نقشے میں نیچے دیئے گئے تاریخی مقامات کی نشاندہی کیجئے۔



4۔ ویلور

3۔ جنجی

2۔ میسورو

1۔ پونا

IIIIV۔ منصوبہ

مرہٹہ حکومت سے متعلق تاریخی مقامات کی سیر کریں اور معلومات اکٹھا کریں۔

حصہ شہریت

باب نمبر-9۔ ہمارا دستور

۱، مندرجہ ذیل سوالات کے جوابات ایک جملہ میں لکھئے۔

1۔ دستور سے کیا مراد ہے؟

جواب۔

2۔ بھارت کے دو ایوانوں کے نام کیا ہیں؟

جواب۔

3۔ مرکزی پارلیمنٹ کے دو ایوانوں کو نئے ہیں؟

جواب۔

4۔ قومی تہواروں کے نام لکھئے؟

جواب۔

5۔ بالغ شہری کے کہتے ہیں؟

جواب۔




6۔ دنیا کا سب سے بڑا جمہوری ملک کہلایا جانے والا ملک کونسا ہے؟

جواب۔

۱۱۔ فہرست "الف" کے لئے فہرست "ب" میں صحیح جواب کا انتخاب کریں۔

جوابات	ب	الف
1۔	(a) دستور ساز کمیٹی	(1) ڈاکٹر بابور اجیندر پرساد
2۔	(b) دستور ساز اسمبلی	(2) بی۔ آر۔ امبیڈکر
3۔	(c) 18 سال	(3) جواہر لال نہرو
4۔	(d) اولین وزیراعظم	(4) بالغ رائے دہی
	(e) 21 سال	

IV۔ مندرجہ ذیل دستور ساز اسمبلی کے اراکین کی شناخت کیجئے۔

نام	تصاویر	
		1
		2
		3

طالب علم کا خود کا محاسبہ

نمبر شمار	اقتسابی اشارے	ہاں	نہیں
1	مغل حکمرانوں نے ہندوستان کی تاریخ میں ادب اور فنون لطیفہ میں جو ترقی کی وہ قابل تعریف ہے۔		
2	شیواجی کی زندگی بہادری، اخلاق اور کارناموں سے بخوبی واقف ہوں		
3	دستور کا مفہوم اہمیت اور خصوصیات کو جانتے ہوئے اسے منظور کر لیتا ہوں		

استاد کی رائے

	عمدہ
	بہترین
	مطمئن

باب نمبر 10
بنیادی حقوق اور فرائض

1- مندرجہ ذیل سوالات کے جوابات ایک جملہ میں لکھئے۔

1- حق سے کیا مراد ہے؟

جواب۔

2- عوام دستور کے بنیادی فرائض پر عمل پیرا نہ ہونے کے لئے ایک مثال پیش کیجئے؟

جواب۔

3- فرائض سے کیا مراد ہے؟

جواب۔

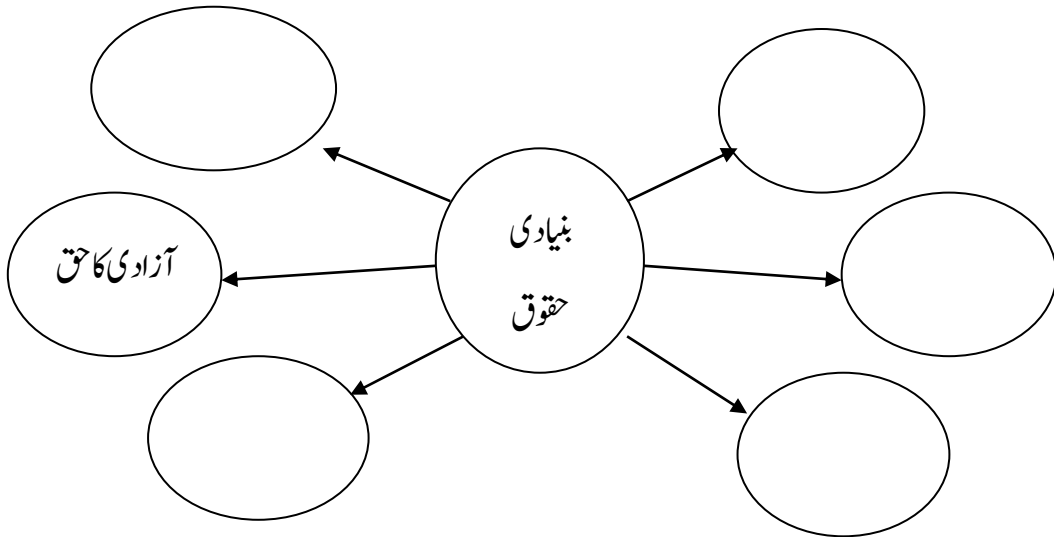
4- دستوری حق تلفی تصحیح سے کیا مراد ہے؟

جواب۔

5- ہندوستانی دستور کے کل کتنے بنیادی حقوق ہیں؟

جواب۔

11- مندرجہ ذیل خالی دائرے بقیہ بنیادی حقوق سے پر کیجئے۔



III۔ مندرجہ ذیل بیانات سے متعلقہ بنیادی حقوق خالی چوکھٹ میں بھرتی کیجئے۔

1۔ پرامن اجلاس منعقد کرنے کی آزادی

2۔ مذہبی اور لسانی اقلیتوں کے مفادات کا تحفظ کرنا۔

3۔ غریبوں، عورتوں، بچوں، اور مجبوروں کا استحصال نہ کریں۔

4۔ قانون تمام کے لئے یکساں ہے۔

5۔ بنیادی حقوق کی حق تلفی کے دوران عوام عدالت میں شکایت درج کریں۔

IV۔ تین یا چار جملوں میں جوابات لکھئے۔

1۔ اپنے ملک کی ترقی کے لئے ادا کئے جانے والے بنیادی فرائض کی فہرست تیار کیجئے؟

جواب۔

2۔ جبری تعلیم سے محروم کوئی بچہ آپ کے علاقہ میں آپ کی نظروں میں آجاتا ہو تو آپ اس کے لئے کیا اقدام اٹھاؤ گے؟

جواب۔

۷۔ سرگرمی

دستور کے بنیادی حقوق اور فرائض کی اہمیت پر مبنی تقریری مقابلہ میں حصہ لیں۔

باب نمبر 11
ریاست کے ہدایتی اصول

1- ایک جملہ میں جواب دو

1- پچھڑے طبقات کے لئے سماجی انصاف کیسے فراہم کر سکتے ہیں؟

جواب

2- تاریخی یادگار (مقامات) کے لئے ایک مثال دو؟

جواب

3- مزدور کی فلاح و بہبود سے کیا مراد ہے؟

جواب

4- بچوں کے حقوق بچوں کی ہم جہت ترقی کے لئے ضروری ہیں۔ ان کی خلاف ورزی ہونے پر آپ کو نئے امدادی کال پر فون کر سکتے ہیں؟

جواب

II۔ جوڑ لگاؤ۔

جوابات	ب	الف
1-----	الف۔ فلاح و بہبودی	1۔ ریاست کے ہدایتی اصول
2-----	ب۔ مفت تعلیم	2۔ شراب نوشی
3-----	ج۔ کمزور طبقات کے لئے امداد	3۔ ماحول
4-----	د۔ فرائض	4۔ بچے
	ق۔ پابندی	

III۔ دو یا تین جملوں میں جوابات دو۔

1۔ ریاست کے ہدایتی اصول سے کیا مراد ہے؟

جواب۔

2۔ زراعت اور مویشی پالنے کی ترقی میں ریاستی اور مرکزی حکومت کا کیا کردار ہے؟

جواب۔

3۔ ماحول کے تحفظ میں آپ کا کیا کردار ادا کرو گے؟

جواب۔

4۔ مزدوروں کی فلاح و بہبود کے لئے حکومت نے کیا اقدامات کئے ہیں؟

جواب۔

5۔ عورتوں اور بچوں کی فلاح و بہبود کے لئے دستور نے ریاستی حکومتوں کو کون سے مشورے اور ہدایات جاری کئے؟

جواب۔

IV۔ مشاہداتی رپورٹ

ایک مزدور کا انٹرویو لیجئے اور اس کی زندگی سے تعلق رکھتے ہوئے مندرجہ ذیل جدول تیار کیجئے۔

نمبر شمار	تفصیلات	رپورٹ
1	نام	
2	عمر	
3	کام	
4	قائم مقام	
5	بچے	
6	ملازمت کا تحفظ	
7	سالانہ آمدنی	
8	ذریعہ معاش	

V۔ سرگرمیاں۔

1۔ مویشی پالن اور اس کا انتظام اس کے متعلق بحث کرتے ہوئے ایک رپورٹ تیار کیجئے۔

2۔ آپ کے علاقے کے قریبی زرعی تحقیقاتی مرکز سے ملاقات کرتے ہوئے معلومات اکٹھا کیجئے۔

4- براعظم شمالی امریکہ میں پائی جانے والی جھیلوں کی فہرست بنائیے؟

جواب

5- شمالی امریکہ کی آب و ہوا کی خصوصیات بیان کیجئے؟

جواب

6- شمالی امریکہ میں پائی جانے والے درختوں کے نام لکھئے؟

جواب

7- شمالی امریکہ میں پائے جانے والے جانوروں کے نام لکھئے؟

جواب

8- ریگستان کی سردراتوں کو ریگستان کا موسم سرما کیوں کہا جاتا ہے؟

جواب

9- شمالی امریکہ کی اہم غذائی فصلیں کونسی ہیں؟

جواب

10- شمالی امریکہ کے کیوبا کو دنیا کا شکر کا پیالہ کیوں کہا جاتا ہے؟

جواب

11- کیلی فورنیا کو انگوروں کی سرزمین کیوں کہا جاتا ہے؟

جواب

12- شمالی امریکہ میں پائے جانے والے اہم معدنیات کونسے ہیں؟

جواب

III- مندرجہ ذیل کے مناسب جوڑ لگائیے۔

جوابات	ب	الف
1-----	(الف) کرکٹ	1- کینیڈا
2-----	(ب) ٹرانس کینیڈین ریلوے	2- یو۔یے۔یس
3-----	(ج) گرانڈ کیانین	3- ویسٹ اینڈیز
	(د) انڈیز کی پہاڑیاں	

IV- غیر متعلق الفاظ کو الگ کیجئے۔

جواب-----	1- زیتون، ادرک، کارک، آئری
جواب-----	2- ہیرین، اونٹاریو، می چیگن، او آہیو
جواب-----	3- میکسیکو، کیناڈا، بھارت، واشنگٹن

V- وجوہات بتائیے۔

1- براعظم شمالی امریکہ کی 90% آبادی شہری آبادی ہے۔

جواب

2- شمالی امریکہ میں دنیا کے عظیم زرخیز زرعی میدان پائے جاتے ہیں۔

جواب

۷۷- شمالی امریکہ کے نقشہ میں درج ذیل مقامات کی نشاندہی کیجئے۔

الف۔ مسیچی ب۔ میکانزی ج۔ سینٹ لارنس د۔ کولاراڈو



۷۸- سرگرمیاں

شمالی امریکہ کے آس پاس پائے جانے والے نباتات، حیوانات اور پرندوں کی تصاویر اکٹھا کیجئے۔

باب نمبر-13

جنوبی امریکہ - اینڈیز کی سرزمین

1- مندرجہ ذیل سوالات کے جوابات ایک جملہ میں لکھئے۔

1- دنیا کا چوتھا بڑا براعظم کونسا ہے؟

جواب۔

2- دنیا کی سب سے بلند مقام پر پائی جانے والی جھیل کونسی ہے؟

جواب۔

3- براعظم جنوبی امریکہ کی ملکی (دیسی) فصلیں کونسی ہیں؟

جواب۔

4- براعظم شمالی امریکہ اور جنوبی امریکہ کو علیحدہ کرنے والے آبنائے کا نام لکھئے؟

جواب۔

5- جنوبی امریکہ میں پائی جانے والی دنیا کی خطرناک مچھلی کونسی ہے؟

جواب۔

II- خالی جگہوں کو مناسب جوابات سے پر کیجئے۔

1- ایکویڈار ملک کا نام اگریزی زبان کے _____ لفظ سے اخذ کیا گیا ہے۔

2- جنوبی امریکہ کا سب سے چھوٹا ملک _____ ہے۔

3- جنوبی امریکہ کے مویشی پالنے والے افراد کو _____ کہا جاتا ہے۔

4- دنیا کا سب سے بلند آبشار _____ جنوبی امریکہ میں واقع ہے۔

5- براعظم جنوبی امریکہ میں کل _____ ممالک ہیں۔

III۔ پہلے دو الفاظ کی طرح تیسرے لفظ کا متعلق لفظ لکھئے۔

- 1۔ ارجنٹائن : کال چنڈی کھیل :: ویزیل : _____
2۔ پیرو کا پرو کوچ جھیل : پیرو :: پوپا جھیل : _____
3۔ برازیل کا ساحل : دھان :: برازیل کا گرم استوائی حرارتی علاقہ : _____
4۔ جنوبی امریکہ کا کثیر آبادی رکھنے والا علاقہ : اروگوئے :: جنوبی امریکہ کا کم آبادی والا علاقہ : _____
5۔ ارجنٹائن : پمپاس :: برازیل : _____

IV۔ پہلی جوڑی کی مناسبت سے صحیح لفظ کا انتخاب کر کے لکھئے۔

الف	ب	جوابات
1۔ پران	1۔ (ریگستان) بنجر زمین	_____
2۔ اٹاکا	2۔ پہاڑی سلسلے	_____
3۔ جونین	3۔ ندی	_____
4۔ گرین چاکو	4۔ جھیل	_____
5۔ اینڈیز	5۔ جانوروں کی چراگاہ	_____
	6۔ نشیبی علاقہ	_____

V۔ ہر ایک سوال کا جواب چار جملوں میں لکھئے۔

1۔ براعظم جنوبی امریکہ کو اینڈیز کی سرزمین کیوں کہا جاتا ہے؟ بیان کیجئے؟

جواب۔ _____

خود کا محاسبہ۔ 4

1۔ تو سین میں دئے گئے جوابات میں سے مناسب اور موزوں ترین جواب کا انتخاب کر کے خالی جگہوں کو پر کیجئے۔

- 1۔ دستور ہندوستان نے ملک کے تمام شہریوں کو----- بنیادی حقوق عطا کئے ہیں۔
 - 2۔ دستور ہند نے----- سال کے عمر تک کے بچوں کو مفت اور لازمی تعلیم حاصل کرنے کا موقع عطا کیا ہے۔
 - 3۔ شمالی امریکہ کے----- ملک کو دنیا کا شکر کا پیالہ کہا جاتا ہے۔
 - 4۔ جنوبی امریکہ کی----- ندی دنیا کی سب سے بڑی ندی ہے۔
- (کیوبا، چھ۔ امیزان، برازیل، مسیسی، 14 تا 6 سال)

II۔ مندرجہ ذیل کے مناسب جوڑ لگائیے۔

الف	ب
1۔ میک کلان	1۔ ندی
2۔ مسیسی	2۔ بلند ترین چوٹی
3۔ سپریر	3۔ ریگستان
4۔ کمپاس	4۔ جھیل
	5۔ نہر

III۔ ہر ایک سوال کا جواب ایک جملہ میں لکھئے۔

1۔ بنیادی حقوق سے کیا مراد ہے؟

2۔ ریاستی رہنما اصولوں سے کیا مراد ہے؟

3۔ فرض کسے کہتے ہیں؟

4۔ شمالی امریکہ میں لمبر جاکس کس کو کہا جاتا ہے؟

IV۔ ہر ایک سوال کا جواب تین یا چار جملوں میں لکھئے۔

1۔ جنوبی امریکہ میں پایا جانے والا دنیا کا سب سے بلند آبشار کونسا ہے؟ اور یہ کس ندی سے جنم لیتا ہے؟

2۔ دستور کی جانب سے دئے گئے کوئی تین بنیادی فرائض بتائیے؟

3- ملک کے شہریوں کو یکساں یا مساوی قانون کی ضرورت کیوں ہے؟

4- آثار قدیمہ (تاریخی عمارات) ہم سب کی ذمہ داری ہے۔ اس بیان کی حمایت کیجئے؟

۷- وجوہات لکھئے

1- براعظم شمالی امریکہ کو پرائریس کی سرزمین کہا جاتا ہے۔

2- براعظم جنوبی امریکہ کو انڈیز کی سرزمین کہا جاتا ہے۔

طالب علم کی خود ادا تشخیص

نمبر شمار	اکتسابی پیمانے اور نکات	ہاں	نہیں
1	بنیادی حقوق اور فرائض کے متعلق جانکاری حاصل کرنا		
2	ریاستی رہنما اصول کے ذریعے ایک خوشحال ریاست کے قیام میں ہونے والی چیزوں کی جانکاری حاصل کرنا۔		
3	براعظم شمالی امریکہ کا رقبہ، جغرافیائی محل وقوع، نباتات، حیوانات، معدنیات اور صنعتوں اور آبادی کے تعلق سے معلومات حاصل کرنا		
4	براعظم جنوبی امریکہ کے محل وقوع رقبہ جغرافیائی طبیعی خصوصیات، ندیوں نہروں، آب و ہوا، حیوانات، حشرات ارض، زراعت آبادی کے تعلق سے جاننا۔		

استاد کی رائے

	عمدہ
	بہترین
	اطمینان بخش