



GRADE
VI (6th)

متبادل تعلیمی منصوبہ 2021 اور 2022 کے لئے {جماعت 6th} ماہ اکتوبر 2021

نمبر شمار	ماہ/ہفتہ	اہم اکتسابی صلاحیتیں	اکتسابی سرگرمیاں	قدر پیمائی/تخصیص
1	اکتوبر پہلا ہفتہ باب-ہمارے اطراف کی تبدیلیاں	1- ہمارے اطراف کی تبدیلیاں کی فہرست بنا کر ان میں رجعتی تبدیلیاں اور غیر رجعتی تبدیلیاں میں فرق کریں گے۔	1- طلباء کو اپنے اطراف ماحول میں ہونے والی تبدیلیاں جیسے پھولوں کا کھلنا، درختوں کا بڑھنا، موسم بتی کا جلنا، پانی کا برف بننا، دودھ کا دہی بننا، پھلوں کا پکنا وغیرہ تبدیلیوں کا مشاہدہ کرنے کی ہدایت دینا۔ 2- طلباء کو رنگین کاغذ دے کر موڑنے کے ذریعہ اور کترنے کے ذریعہ الگ الگ قسم کے نمونے/کھلونے تیار کرنے کی ہدایت دینا۔ - کاغذ کے ذریعے کرافٹ تیار کرنے کے لئے مندرجہ ذیل یوٹیوب لنک کو استعمال کر سکتے ہیں۔ https://www.youtube.be/2hcLNO https://www.youtube/gh2yrPYm1j XCFO مندرجہ ذیل یوٹیوب لنک کو استعمال کر کے ای۔سویڈ جماعت کا "ہمارے اطراف کی تبدیلیاں" ویڈیو سبق کا مشاہدہ کرنے کے لئے کہنا۔	1- تمہارے اطراف ماحول میں دیکھے ہوئے مختلف قسم کی تبدیلیوں کی فہرست بنائے۔ 2- تبدیلی کے بعد بھی وہی اشیاء کو حاصل کر سکنے کے نمونے/کھلونے کون کونسے ہیں؟ 3- تبدیلی کے بعد بھی وہی اشیاء کو حاصل نہ کر سکنے کے نمونے/کھلونے کون کونسے ہیں؟ 4- رجعتی اور غیر رجعتی تبدیلیوں کے درمیان موجود فرق کو سمجھائے۔ 5- مشقی کتاب کے صفحہ نمبر 39 اور 40

نمبر شمار	ماہ/ہفتہ	اہم اکتسابی صلاحیتیں	اکتسابی سرگرمیاں	قدر پیمائی/تخصیص
			<p>ورک شیٹ۔ 03 کو مکمل کرنے کے لئے اساتذہ/اٹروں کی مدد حاصل کرنا۔</p> <p style="text-align: center;">  DIKSHA </p> <p>دکشا ایپ میں ہمارے اطراف کی تبدیلیاں اکتسابی نکات سے تعلق رکھنے والے ویڈیو کا مشاہدہ کر کے معلومات حاصل کرنے میں مدد فراہم کریں گے۔</p>	<p>کے سائنسی وجوہات کو لکھنا۔</p>
2	اکتوبر دوسرا ہفتہ باب۔ 7 پودوں سے شناسائی	<p>1۔ پودے کے مختلف حصوں اور پودوں کی اونچائی تنا اور شاخوں کی بنیاد پر بوٹی، جھاڑی اور درخت میں درجہ بندی کر کے سمجھنا۔</p>	<p>1۔ حقیقی پودے کو استعمال کر کے پودے کے مختلف حصوں کا تعارف کروانا۔</p> <p>ورک شیٹ۔ 04 میں دی گئی سرگرمی کو استاد/اٹروں کی مدد سے انجام دینا۔</p> <p>2۔ بچوں کو مختلف قسم کے پودوں کے تصاویر جمع کرنے کے لئے کہنا۔ پودوں کی اونچائی، تنا اور شاخوں کی بنیاد پر ان کی مناسبت، موازنہ، فرق کو مد نظر رکھتے ہوئے بوٹی، جھاڑی، درخت، نیل CREEPER اور کلائمبر CLIMBER میں درجہ بندی کرنے میں مدد فراہم کرنا۔ ورک شیٹ۔ 05 کو اٹروں کی مدد سے پُر کرنا۔ جماعت کا "پودوں سے شناسائی" ویڈیو سبق کا مشاہدہ کر کے اُس میں دی گئی سرگرمیوں کو انجام دینے میں مدد فراہم کریں گے۔</p> <p>https://youtube.be/1p-34UXiDO</p>	<p>1۔ مشقی کتاب کے صفحہ نمبر 44 پر دئے گئے QIII کے جوڑیاں اور QIV کے سوال نمبر 1 اور 2 کے جوابات لکھئے۔</p> <p>2۔ آپ کے ذریعہ غذا کے طور پر استعمال کرنے والے پودوں کی فہرست بنا کر ان کو پودوں کے اقسام میں درجہ بندی کریں۔</p>
3	اکتوبر چوتھا ہفتہ	<p>2۔ پودوں کے حصے جڑ، تنا کے کام اور پتی، پھول کی شکل اور افعال کو سمجھنا۔</p>	<p>1۔ درسی کتاب کے صفحہ نمبر 65 پر دئے گئے عملی کام 2۔ کو اساتذہ کی رہنمائی میں انجام دیں گے۔</p> <p>https://youtube.be/hSnK4warAu8</p> <p>اس ویڈیو لنک کا مشاہدہ کرنا۔</p> <p>2۔ درسی کتاب کے صفحہ نمبر 69 اور 71 پر دئے گئے عملی کام 6، 7 اور 9 کو اساتذہ/اٹروں/جماعت کی</p>	<p>3۔ تنے کے افعال (کام) لکھئے۔</p> <p>4۔ اصل جڑ (tap root) اور چھوٹی جڑیں (lateral root) رکھنے والے پودوں کی</p>

نمبر شمار	ماہ/ہفتہ	اہم اکتسابی صلاحیتیں	اکتسابی سرگرمیاں	قدر پیمائی/تخصیص
			<p>رہنمائی میں طلباء انجام دیں گے۔</p> <p>ورک شیٹ۔ 06 میں دی گئی سرگرمی کو اساتذہ/ہم جماعتوں کی مدد سے انجام دینا۔</p> <p>3۔ طلباء کو مختلف قسم کے پتیوں کو جمع کر کے لانے کے لئے کہیں۔ پتیوں کے عکس کو سفید کاغذ پر چھاپنے نسون کی ترتیب اور کام کو سمجھنے میں اساتذہ مدد فراہم کریں۔</p> <p>درسی کتاب میں صفحہ نمبر پر دی گئی سرگرمی (عملی کام) کو اساتذہ کی رہنمائی میں انجام دیں۔</p> <p>https://youtu.be/QdXQ7r8aq</p> <p>اس ویڈیو لنک کا مشاہدہ کریں۔</p> <p>4۔ حقیقی، ہیبیسکس (Hibiscus) پھولوں کو جمع کر کے پھول کے مختلف حصوں کا تعارف کروا کر سمجھانا۔</p> <p>ورک شیٹ۔ 08 اور 09 میں دی گئی سرگرمیوں کو انجام دیں۔</p> <p>۔ مذید اکتساب کے لئے درج ذیل ویڈیو لنکس کا مشاہدہ کریں۔</p> <p>1) https://youtu.be/-7DbXajIN-7y</p> <p>2) https://youtu.be/VO7anc8u10</p>	<p>الگ الگ فہرست بنائے۔</p> <p>5۔ پتی (Leaf) کی صاف شکل کھینچ کر حصوں کی نشاندہی کر کے عمل سریاں کی تشریح کیجئے؟</p> <p>6۔ ضیائی تالیف عمل کو بیان کیجئے۔</p> <p>7۔ مثالی پھول، ہیبیسکس کی صاف شکل کھینچ کر رنگ بھر کر حصوں کے نام لکھئے۔</p> <p>8۔ مشقی کتاب کے صفحہ نمبر 45، 46، 47 پر دئے گئے سوالات کے جوابات مکمل کرنے کے لئے کہنا۔</p>
<p>محترم ایس۔ پی۔ باؤگنڈی ڈی۔ ڈی۔ پی۔ آئی ترقیات ڈائنٹ پرنسپل وجے پور۔</p> <p>محترم عبدالرحیم۔ ایم ڈائنٹ لیچرار وجے پور</p> <p>محترم این۔ وی۔ ہوسور ڈی۔ ڈی۔ پی۔ آئی انتظامیہ وجے پور۔</p> <p>محترم ضیاالحق ستاریکمر۔ اردو رابطہ کار ڈی ڈی پی آئی آفس وجے پور۔</p> <p>صابر تامبولی آصف ناگٹھان مدثر روزندار</p> <p>صاحب و سائل بسون باگیواڑی سرکاری اردو لڑکیوں کا مدرسہ شیوگی وجے پور سرکاری اردو ہائپر انٹری اسکول جینا پور</p>				

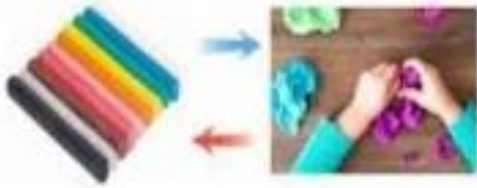
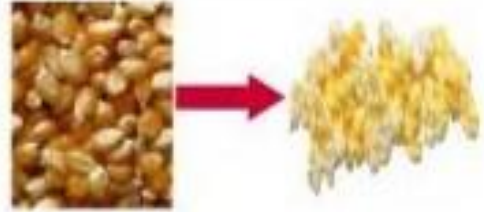

متبادل تعلیمی منصوبہ اکتوبر-2021

جماعت :-6

مضمون :- سائنس

ورک شیٹ-02

مندرجہ ذیل تصاویر کا مشاہدہ کر کے رجعتی تبدیلیاں یا غیر رجعتی تبدیلیاں ہیں پہچان کر خالی جگہوں میں لکھئے۔



متبادل تعلیمی منصوبہ اکتوبر-2021

جماعت :- 6

مضمون :- سائنس

ورک شیٹ - 03

مندرجہ ذیل کو سکڑنے والے اور پھیلنے والے اشیاء میں درجہ بندی کر کے رکھئے۔

1- کھینچی ہوئی ربر بینڈ

2- ہوا بھرے ہوئے غبارے کا پھٹنا



3- گرم کی گئی لوہا

4- پنکچر ہوا پیہ

5- پانی میں بھگی ہوئی کپاس

6- گرم کئے گئے تیل میں ڈالا گیا پاڑ

سنگڑنے والے اشیاء

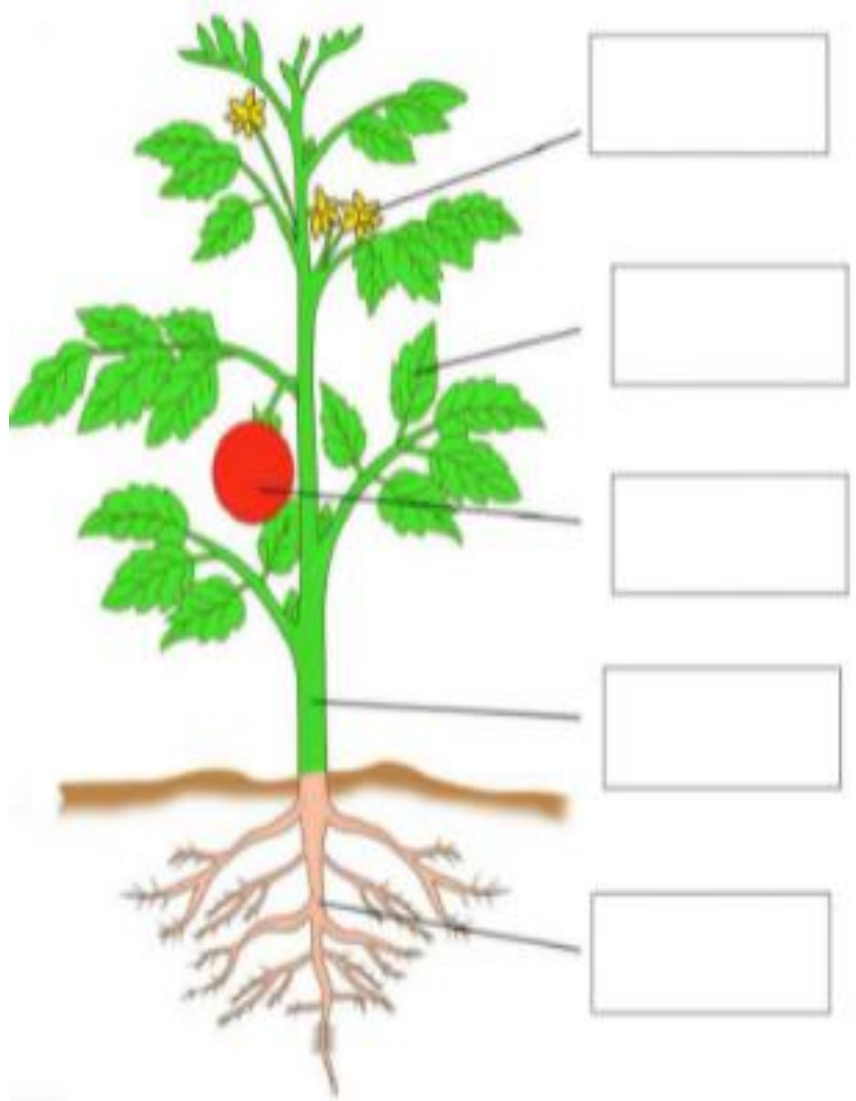


متبادل تعلیمی منصوبہ اکتوبر-2021

جماعت :- 6
مضمون :- سائنس

ورک شیٹ - 04

درج ذیل تصویر کا مشاہدہ کر کے پودے کے حصوں کو پہچانئے۔



متبادل تعلیمی منصوبہ اکتوبر-2021

جماعت :-6

مضمون :- سائنس

ورک شیٹ-05

درج ذیل تصاویر کا مشاہدہ کر کے یہ پودوں کے کس گروہ (گروپ) میں شمار ہوتے ہیں لکھئے۔



متبادل تعلیمی منصوبہ اکتوبر-2021

جماعت :- 6

مضمون :- سائنس

ورک شیٹ - 06

درج ذیل تصاویر کا مشہدہ کر کے چڑ کے کام (افعال) لکھئے۔






مبادلہ تعلیمی منصوبہ اکتوبر-2021


جماعت:-6

مضمون:-سائنس

ورک شیٹ-07

درج ذیل میں دئے گئے تصاویر میں پتیوں کے حصوں کو پہچاننے اور یہ کس قسم کی نسوں کے ڈیزائن رکھتے ہیں؟ لکھئے۔





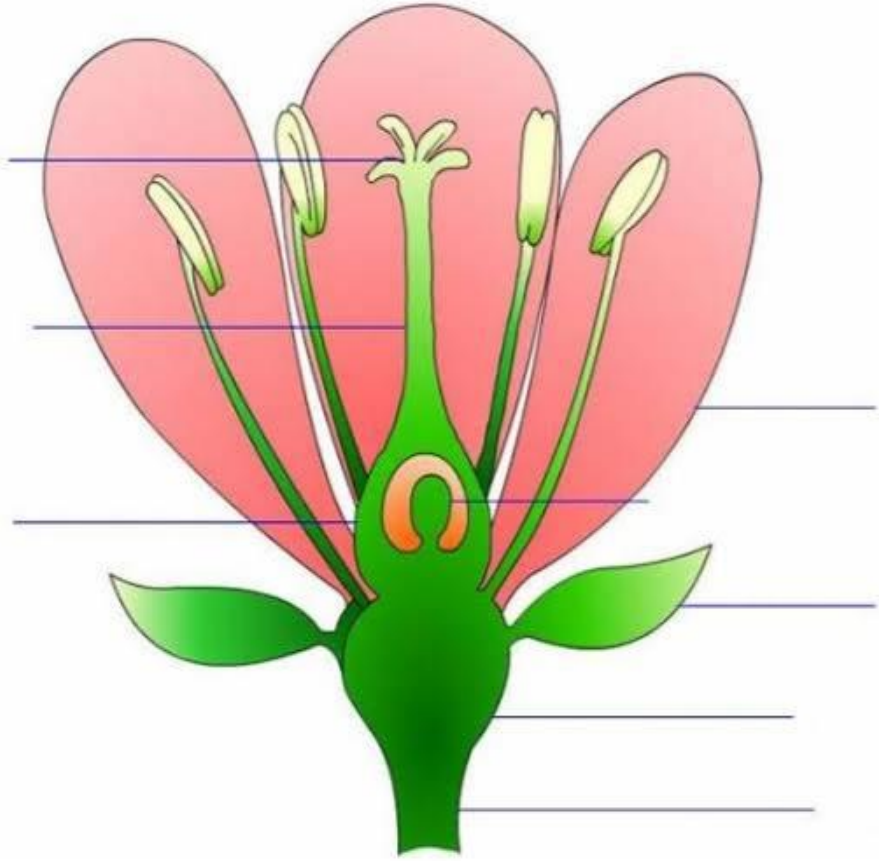
مبادل تعلیمی منصوبہ اکتوبر-2021

جماعت :-6

مضمون :- سائنس

ورک شیٹ-08

درج ذیل میں دی گئی پھول کی تصویر کا مشاہدہ کر کے حصوں کو پہچانئے۔



متبادل تعلیمی منصوبہ اکتوبر-2021

جماعت:- 6
مضمون:- سائنس

ورک شیٹ-09

مختلف اقسام کے پھولوں کو جمع کر کے مشاہدہ کر کے مندرجہ ذیل جدول کو پُر کیجئے۔

پھولوں کا نام	پتھڑیوں کی تعداد	انکھڑیوں کی تعداد	کیا انکھڑیاں ایک دوسرے سے	زرد ریشے آزاد ہیں یا پتھڑیوں سے	مادگیں موجود ہے یا نہیں

