

GMAT (K-8)

Question Booklet Sl. No.

N M M S

ರಾಜ್ಯ ಶಿಕ್ಷಣ ಸಂಶೋಧನೆ ಮತ್ತು ತರಬೇತಿ ಇಲಾಖೆ
DEPARTMENT OF STATE EDUCATIONAL RESEARCH AND TRAINING

ರಾಜ್ಯ ಮಟ್ಟದ ಎನ್.ಎಂ.ಎಂ.ಎಸ್. ಪರೀಕ್ಷೆಗಳು, ನವೆಂಬರ್ 2017
STATE LEVEL NMMS EXAMINATION, NOVEMBER 2017

ಪತ್ರಿಕೆ - I/PAPER - I

ತರಗತಿ - 8/CLASS - 8

ಸಾಮಾನ್ಯ ಬೌದ್ಧಿಕ ಸಾಮರ್ಥ್ಯ ಪರೀಕ್ಷೆ /GENERAL MENTAL ABILITY TEST

REGISTER NO. :

1	4	1	1	7							
---	---	---	---	---	--	--	--	--	--	--	--

ಸಮಯ : 90 ನಿಮಿಷಗಳು
TIME : 90 MINUTES

ಇಂಗ್ಲಿಷ್ / ಕನ್ನಡ
ENGLISH / KANNADA

ಗರಿಷ್ಠ ಅಂಕಗಳು : 90
MAX. MARKS : 90

ಅಭ್ಯರ್ಥಿಗಳಿಗೆ ಸೂಚನೆಗಳು

1. ಪರೀಕ್ಷೆ ಪ್ರಾರಂಭಗೊಂಡ ತಕ್ಷಣವೇ ಈ ಪ್ರಶ್ನೆಪುಸ್ತಿಕೆಯಲ್ಲಿ ಮುದ್ರಿತವಾಗದ, ಹರಿದಿರುವ ಅಥವಾ ಯಾವುದೇ ಪುಟ ಇಲ್ಲದಿರುವ, ಇತ್ಯಾದಿ ಅಂಶಗಳನ್ನು ಪರಿಶೀಲಿಸತಕ್ಕದ್ದು. ಮೇಲಿನ ಯಾವುದೇ ದೋಷ ಕಂಡುಬಂದಲ್ಲಿ ಅದನ್ನು ಹಿಂದಿರುಗಿಸಿ ಬೇರೆ ಪ್ರಶ್ನೆ ಪುಸ್ತಿಕೆಯನ್ನು ಪಡೆಯತಕ್ಕದ್ದು.
2. ಬಿಡಿ ಓ.ಎಮ್.ಆರ್ ಉತ್ತರ ಪತ್ರಿಕೆ ಅಡಕಗೊಂಡಿರುವ, 90 ಪ್ರಶ್ನೆಗಳಿರುವ ಪ್ರಶ್ನೆ ಪುಸ್ತಿಕೆಯನ್ನು ನಿಮಗೆ ನೀಡಲಾಗಿದೆ.
3. ಓ.ಎಮ್.ಆರ್. ಶೀಟಿನ ಮುಖಪುಟದಲ್ಲಿ ಕೇಳಿರುವ ಎಲ್ಲಾ ಮಾಹಿತಿಗಳನ್ನು ಸರಿಯಾಗಿ ಗಮನಿಸಿ ಅದಕ್ಕೆ ಸಂಬಂಧಿಸಿದ ಅಂಕಗಳನ್ನು ತುಂಬುವುದು (ಶೇಡ್ ಮಾಡುವುದು).
4. ಎಲ್ಲಾ ಪ್ರಶ್ನೆಗಳು ಕಡ್ಡಾಯ. ಪ್ರತೀ ಪ್ರಶ್ನೆಗೆ ಒಂದು ಅಂಕವಿದೆ.
5. ಪರೀಕ್ಷಾ ಅವಧಿಯಲ್ಲಿ
 - * ಪ್ರತಿ ಪ್ರಶ್ನೆಯನ್ನು ಜಾಗರೂಕತೆಯಿಂದ ಓದಿರಿ.
 - * ಪ್ರತಿ ಪ್ರಶ್ನೆಗೆ ನೀಡಲಾಗಿರುವ ನಾಲ್ಕು ಉತ್ತರಗಳ ಪೈಕಿ ಸರಿಯಾದ ಉತ್ತರವನ್ನು ಕಂಡು ಹಿಡಿಯಿರಿ.
 - * ಓ.ಎಮ್.ಆರ್. ಪುಟದಲ್ಲಿ ಪ್ರತಿ ಪ್ರಶ್ನೆಗೆ ಸರಿ ಹೊಂದುವ ಉತ್ತರವನ್ನು ಗುರುತಿಸಲು ನೀಡಲಾಗಿರುವ ನಾಲ್ಕು ವೃತ್ತಗಳ ಪೈಕಿ ಸರಿಯಾದ ಉತ್ತರದ ವೃತ್ತವನ್ನು ನೀಲಿ/ಕಪ್ಪು ಶಾಯಿಯ ಬಾಲ್‌ಪಾಯಿಂಟ್ ಪೆನ್ ಮಾತ್ರ ಉಪಯೋಗಿಸಿ ಗುರುತು ಮಾಡಿ.
 - * ಉದಾ : 20ನೇ ಪ್ರಶ್ನೆಯ ಸರಿ ಉತ್ತರವು ಕ್ರ.ಸಂ. 3 ಆಗಿದ್ದಲ್ಲಿ ಓ.ಎಮ್.ಆರ್. ಪುಟದಲ್ಲಿ ಕ್ರ.ಸಂ. 20ರ ಮುಂದೆ ಈ ರೀತಿ ನೀಲಿ/ಕಪ್ಪು ಬಾಲ್ ಪಾಯಿಂಟ್ ಉಪಯೋಗಿಸಿ ವೃತ್ತವನ್ನು ಗುರುತು ಮಾಡುವುದು. ಈ ಕೆಳಗೆ ತೋರಿಸಿದಂತೆ ಸಂಪೂರ್ಣವಾಗಿ ತುಂಬಬೇಕು.
20. ① ② ● ④ (ಇದು ಉದಾಹರಣೆ ಮಾತ್ರ)
6. ಒಂದು ಪ್ರಶ್ನೆಗೆ ಉತ್ತರವಾಗಿ ಒಂದಕ್ಕಿಂತ ಹೆಚ್ಚು ವೃತ್ತಗಳನ್ನು ಗುರುತು ಮಾಡಿದಲ್ಲಿ ಅಂತಹ ಉತ್ತರಗಳನ್ನು ತಪ್ಪೆಂದು ಪರಿಗಣಿಸಿ ಅಂಕಗಳನ್ನು ನೀಡಲು ಬರುವುದಿಲ್ಲ.
7. ಚಿತ್ತು ಕೆಲಸಕ್ಕಾಗಿ ಹಾಳೆಗಳನ್ನು ಪ್ರಶ್ನೆ ಪುಸ್ತಿಕೆಯ ಕೊನೆಯಲ್ಲಿ ಸೇರಿಸಲಾಗಿದೆ. ಪ್ರಶ್ನೆಪುಸ್ತಿಕೆಯ ಇನ್ನುಳಿದ ಯಾವ ಭಾಗದಲ್ಲಿಯೂ ನೀವು ಯಾವ ರೀತಿಯ ಗುರುತನ್ನು ಮಾಡತಕ್ಕದ್ದಲ್ಲ.
8. ಓ.ಎಮ್.ಆರ್. ಪುಟದಲ್ಲಿ ನಿಗದಿತ ಸ್ಥಳದಲ್ಲಿ ಅಭ್ಯರ್ಥಿ ಹಾಗೂ ಕೊಠಡಿ ಮೇಲ್ವಿಚಾರಕರು ತಪ್ಪದೇ ಸಹಿ ಮಾಡಬೇಕು.
9. ಪರೀಕ್ಷಾ ಅವಧಿ ಮುಗಿದ ನಂತರ ಉತ್ತರಿಸಿದ ಓ.ಎಮ್.ಆರ್. ಪುಟವನ್ನು ಕೊಠಡಿ ಮೇಲ್ವಿಚಾರಕರಿಗೆ ತಪ್ಪದೇ ಒಪ್ಪಿಸತಕ್ಕದ್ದು.
10. ಪರೀಕ್ಷಾ ಕೊಠಡಿಯೊಳಗೆ, ಕ್ಯಾಲಕಲೇಟರ್, ಮೊಬೈಲ್ ದೂರವಾಣಿಯನ್ನು (ಇನ್ನಾವುದೇ ಎಲೆಕ್ಟ್ರಾನಿಕ್ ಉಪಕರಣಗಳನ್ನು) ತರುವುದನ್ನು ನಿಷೇಧಿಸಿದೆ.
11. ಓ.ಎಮ್.ಆರ್. ಪುಟವನ್ನು ಭರ್ತಿ ಮಾಡಲು ಸೂಚನೆಗಳು :
 - * ಪ್ರತಿಯೊಂದು ಪ್ರಶ್ನೆಗೂ ಒಂದೇ ಒಂದು ಸರಿಯಾದ ಉತ್ತರವಿರುತ್ತದೆ.
 - * ಎಲ್ಲಾ ವೃತ್ತಗಳನ್ನು ನೀಲಿ/ಕಪ್ಪು ಬಾಲ್‌ಪಾಯಿಂಟ್ ಪೆನ್‌ನಿಂದ ಮಾತ್ರ ತುಂಬಬೇಕು. ಉತ್ತರವನ್ನು ತುಂಬಿದ ಮೇಲೆ ಬದಲಿಸಲು ಪ್ರಯತ್ನಿಸಬೇಡಿ.
 - * ವೃತ್ತದಲ್ಲಿರುವ ಸಂಖ್ಯೆಗಳು ಕಾರಣದಂತೆ ವೃತ್ತವನ್ನು ಸಂಪೂರ್ಣವಾಗಿ ತುಂಬಬೇಕು. (ಶೇಡ್ ಮಾಡಬೇಕು) ಒಮ್ಮೆ ಉತ್ತರವನ್ನು ಶೇಡ್ ಮಾಡಿದ ಮೇಲೆ ಬದಲಾಯಿಸಲು ಅವಕಾಶವಿಲ್ಲ.
 - * ಉತ್ತರ ಪತ್ರಿಕೆಯ ಮೇಲೆ ಬೇರೆ ಯಾವುದೇ ರೀತಿಯ ಗುರುತು/ಗೀಟು ಅಥವಾ ಚುಕ್ಕಿಯಾಗಲೀ ಮಾಡಬಾರದು.
12. ಉತ್ತರ ಪತ್ರಿಕೆಯಲ್ಲಿ ಕಂಡುಬರುವ ಬಾರ್‌ಕೋಡ್‌ಗಳ ಮೇಲೆ ಯಾವುದೇ ಗುರುತು ಮಾಡತಕ್ಕದ್ದಲ್ಲ.

Note : English version of the instructions is printed on the back cover of this booklet.

GMAT (K-8)



SPACE FOR ROUGH WORK

ಚಿತ್ತು ಬರಹಕ್ಕಾಗಿ ಸ್ಥಳ



GENERAL MENTAL ABILITY TEST

ಸಾಮಾನ್ಯ ಬೌದ್ಧಿಕ ಸಾಮರ್ಥ್ಯ ಪರೀಕ್ಷೆ

(Questions 1 – 5)

Directions : Complete the following number series by choosing the correct number from the given choices.

(ಪ್ರಶ್ನೆಗಳು 1 – 5)

ಸೂಚನೆಗಳು : ಕೊಟ್ಟಿರುವ ಪರ್ಯಾಯಗಳಿಂದ ಸರಿಯಾದ ಸಂಖ್ಯೆಗಳನ್ನು ಆರಿಸಿ, ಕೆಳಗಿನ ಸಂಖ್ಯಾ ಶ್ರೇಣಿಗಳನ್ನು ಪೂರ್ಣಗೊಳಿಸಿ.

1. 13, 27, 43, 61, 81, ?

- 1) 101
- 2) 102
- 3) 103
- 4) 105

2. 7, 11, 19, 35, ?, 131

- 1) 39
- 2) 43
- 3) 51
- 4) 67

3. 9, 13, 22, 38, ?, 99

- 1) 54
- 2) 63
- 3) 74
- 4) 87

4. 4, 12, 39, 103, 228, ?

- 1) 292
- 2) 353
- 3) 444
- 4) 571

5. 4, 7, 12, 21, 38, ?

- 1) 71
- 2) 73
- 3) 76
- 4) 81

GMAT (K-8)



(Questions 6 – 10)

Directions : Under each given letter series, four alternatives are given. Complete the series by choosing the correct one.

(ಪ್ರಶ್ನೆಗಳು 6 – 10)

ಸೂಚನೆಗಳು : ಕೆಳಗೆ ಕೊಟ್ಟಿರುವ ಪ್ರತಿಯೊಂದು ಅಕ್ಷರ ಶ್ರೇಣಿಗೂ ನಾಲ್ಕು ಪರ್ಯಾಯಗಳನ್ನು ಕೊಟ್ಟಿದೆ. ಸರಿಯಾದದನ್ನು ಆರಿಸಿ ಶ್ರೇಣಿಯನ್ನು ಪೂರ್ಣಗೊಳಿಸಿ.

6. p p _ q _ q p _ _ q q _ _ p p

- 1) p q p q p q
- 2) q q p p q q
- 3) p q p p q p
- 4) p q q p q q

7. l m _ n _ l l _ n _ m l _ m n

- 1) m n m n l
- 2) n m m n l
- 3) n n m m l
- 4) m n n m n

8. a _ a c _ d a _ a _ a _

- 1) b a b c d
- 2) b c c b d
- 3) c a c d b
- 4) d a b c d

9. CX, DW, EV, FU, GT, ?, ?

- 1) HP, JQ
- 2) SH, RI
- 3) IS, JR
- 4) HS, IR

10. e _ f g f _ g h _ g h i _ h i j

- 1) e f h g
- 2) f e g h
- 3) e f g h
- 4) g h f e

GMAT (K-8)



(Questions 11 – 15)

Directions : Find the wrong number in the given series.

(ಪ್ರಶ್ನೆಗಳು 11 – 15)

ಸೂಚನೆಗಳು : ಕೊಟ್ಟಿರುವ ಶ್ರೇಣಿಯಲ್ಲಿ ತಪ್ಪಾದ ಸಂಖ್ಯೆಯನ್ನು ಕಂಡು ಹಿಡಿಯಿರಿ.

11. 7, 14, 22, 34, 47, 62

- 1) 14
- 2) 22
- 3) 34
- 4) 47

12. 9, 7, 13, 10, 17, 14, 21, 16

- 1) 9
- 2) 13
- 3) 14
- 4) 21

13. 4, 20, 80, 230, 480, 480

- 1) 20
- 2) 80
- 3) 230
- 4) 480

14. 17, 23, 31, 39, 41, 47

- 1) 17
- 2) 23
- 3) 31
- 4) 39

15. 7, 12, 22, 42, 86, 162

- 1) 86
- 2) 42
- 3) 32
- 4) 12

GMAT (K-8)



(Questions 16 – 21)

Directions : In the given questions there are four groups of numbers / pairs of numbers / group of letters of which three are alike and one is different. Find the one which is different.

(ಪ್ರಶ್ನೆಗಳು 16 – 21)

ಸೂಚನೆಗಳು: ಈ ಕೆಳಗಿನ ಪ್ರಶ್ನೆಗಳಲ್ಲಿ ಪ್ರತಿಯೊಂದರಲ್ಲಿಯೂ ಸಂಖ್ಯೆಗಳು/ಜೋಡಿ ಸಂಖ್ಯೆಗಳು/ ಅಕ್ಷರಗಳ ಗುಂಪುಗಳ ನಾಲ್ಕು ಗುಂಪುಗಳನ್ನು ಕೊಟ್ಟಿದೆ. ಇವುಗಳಲ್ಲಿ ಮೂರು ಒಂದು ರೀತಿಯ ಸಂಬಂಧವನ್ನು ಹೊಂದಿರುತ್ತವೆ. ಒಂದು ಮಾತ್ರ ಭಿನ್ನವಾಗಿದೆ. ಭಿನ್ನವಾಗಿರುವುದನ್ನು ಗುರುತಿಸಿ.

- 16.** 1) 4, 22
2) 6, 42
3) 8, 72
4) 10, 110

- 17.** 1) 144
2) 169
3) 202
4) 327

- 18.** 1) 4, 8
2) 9, 64
3) 25, 125
4) 36, 216

- 19.** 1) C E D F
2) G I H J
3) K L M N
4) O Q P R

- 20.** 1) C P D Q
2) E S F R
3) G T H U
4) I V J W

- 21.** 1) D F I
2) J L P
3) K M Q
4) S U Y

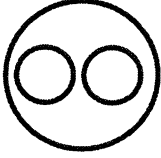


(Questions 22 – 26)

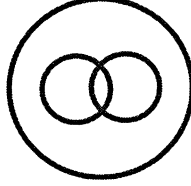
Directions : The following Venn Diagrams shows the relationship among the three given objects. Indicate the appropriate diagram to show the relationship.

(ಪ್ರಶ್ನೆಗಳು 22 – 26)

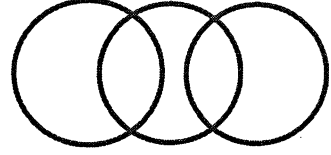
ಸೂಚನೆಗಳು : ಈ ಕೆಳಗಿನ ವೆನ್ ಚಿತ್ರಗಳು ಪ್ರಶ್ನೆಯಲ್ಲಿರುವ ಮೂರು ವಸ್ತುಗಳಿಗಿರುವ ಸಂಬಂಧವನ್ನು ಸೂಚಿಸುತ್ತದೆ. ಈ ಸಂಬಂಧವನ್ನು ಸೂಚಿಸುವ ಸರಿಯಾದ ಚಿತ್ರವನ್ನು ಗುರುತಿಸಿ.



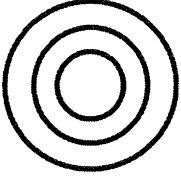
A



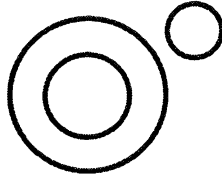
B




C



D



E



F

22. Mammals, Rat, Bat

ಸಸ್ತನಿಗಳು, ಇಲಿ, ಬಾವಲಿ

- 1) A
- 2) B
- 3) C
- 4) D

23. Shark, Birds, Parrot

ಶಾರ್ಕ್, ಪಕ್ಷಿಗಳು, ಗಿಳಿ

- 1) C
- 2) D
- 3) E
- 4) F

24. Asia, Sri Lanka, Colombo

ಏಷಿಯಾ, ಶ್ರೀಲಂಕಾ, ಕೊಲಂಬೊ

- 1) F
- 2) C
- 3) A
- 4) D

25. Doctors, Mothers, Nurses

ವೈದ್ಯರು, ತಾಯಿಯರು, ದಾದಿಯರು

- 1) D
- 2) C
- 3) B
- 4) A



26. Authors, Teachers, Researchers

ಲೇಖಕರು, ಶಿಕ್ಷಕರು, ಸಂಶೋಧಕರು

- 1) F
- 2) A
- 3) D
- 4) E

(Questions 27 – 32)

Directions : Complete the given analogy by selecting the correct answers from alternatives.

(ಪ್ರಶ್ನೆಗಳು 27 – 32)

ಸೂಚನೆಗಳು : ಕೊಟ್ಟಿರುವ ಪರ್ಯಾಯಗಳಿಂದ ಸರಿಯಾದ ಉತ್ತರವನ್ನು ಆರಿಸಿ ಕೆಳಗಿನ ಸಾಮ್ಯತೆಯನ್ನು ಪೂರ್ಣಗೊಳಿಸಿ.

27. 30 : 42 :: ? : 90

- 1) 49
- 2) 64
- 3) 72
- 4) 81

28. 14 : 18 :: 34 : ?

- 1) 36
- 2) 38
- 3) 47
- 4) 51

29. 9 : 64 :: 25 : ?

- 1) 36
- 2) 81
- 3) 125
- 4) 216

30. BDE : FHI :: JLM : ?

- 1) NOP
- 2) NPQ
- 3) OPQ
- 4) PQR

31. GH9 : JK12 :: ? : PQ18

- 1) MN15
- 2) NM15
- 3) MN14
- 4) NM16

32. CFK : EJQ :: QTY : ?

- 1) RVB
- 2) SXD
- 3) SXE
- 4) RWC

GMAT (K-8)**(Questions 33 – 35)**

Directions : Choose and substitute the correct set of signs in place of * sequentially selecting from the given alternatives to make the equations meaningful.

33. $7 * 6 * 4 * 38$

- 1) -, ×, =
- 2) ×, =, -
- 3) ×, -, =
- 4) +, ×, =

(ಪ್ರಶ್ನೆಗಳು 33 – 35)

ಸೂಚನೆಗಳು: ಕೊಟ್ಟಿರುವ ಸಮೀಕರಣವನ್ನು ಅರ್ಥಪೂರ್ಣ ಮಾಡಲು, ಕೊಟ್ಟಿರುವ ಯಾವ ಚಿಹ್ನೆಯ ಗಣವನ್ನು * ಜಾಗದಲ್ಲಿ ಕ್ರಮವಾಗಿ ಆದೇಶಿಸಬೇಕು ಎಂಬುದನ್ನು ಪರ್ಯಾಯಗಳಿಂದ ಆರಿಸಿ.

34. $16 * 2 * 4 * 2$

- 1) ÷, -, =
- 2) +, =, ×
- 3) -, ×, =
- 4) ÷, =, ×

35. $6 * 4 * 2 * 12$

- 1) ×, ÷, =
- 2) ×, -, =
- 3) =, -, ÷
- 4) -, ×, =

(Questions 36 – 38)

Directions : In the given equation find which of the following interchange of signs/numbers would make the equation correct.

(ಪ್ರಶ್ನೆಗಳು 36 – 38)

ಸೂಚನೆಗಳು: ಕೊಟ್ಟಿರುವ ಸಮೀಕರಣದಲ್ಲಿ ಯಾವ ಚಿಹ್ನೆಗಳು/ಸಂಖ್ಯೆಗಳನ್ನು ಅದಲು ಬದಲು ಮಾಡಿದಾಗ ಸಮೀಕರಣ ಸರಿಯಾಗಿರುತ್ತದೆ ಎಂಬುದನ್ನು ಕಂಡುಹಿಡಿಯಿರಿ.

36. $36 - 12 \div 8 + 6 = 42$

- 1) ÷ and +
÷ ಮತ್ತು +
- 2) 8 and 6
8 ಮತ್ತು 6
- 3) - and +
- ಮತ್ತು +
- 4) 36 and 8
36 ಮತ್ತು 8

37. $10 \times 6 - 2 + 6 = 4$

- 1) × and +
× ಮತ್ತು +
- 2) + and =
+ ಮತ್ತು =
- 3) 10 and 4
10 ಮತ್ತು 4
- 4) 2 and 4
2 ಮತ್ತು 4

38. $8 \div 2 = 30 + 3$

- 1) 8 and 3
8 ಮತ್ತು 3
- 2) 2 and 30
2 ಮತ್ತು 30
- 3) = and +
= ಮತ್ತು +
- 4) ÷ and +
÷ ಮತ್ತು +

GMAT (K-8)

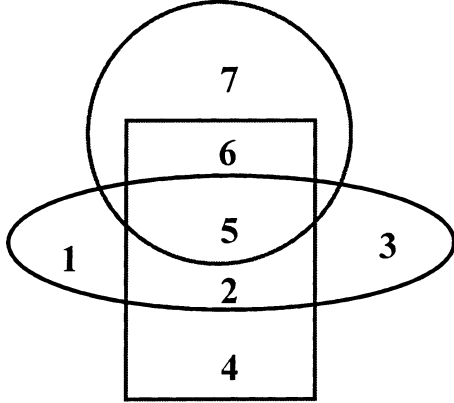


(Questions 39 – 43)

Directions : The following questions are based on the given diagram below, in which each figure represents a group.

(ಪ್ರಶ್ನೆಗಳು 39 – 43)

ಸೂಚನೆಗಳು : ಈ ಕೆಳಗಿನ ಪ್ರಶ್ನೆಗಳು ಕೊಟ್ಟಿರುವ ಆಕೃತಿಯನ್ನು ಹಾಗೂ ಪ್ರತಿ ಚಿತ್ರವು ಸೂಚಿಸುವ ಗುಂಪನ್ನು ಆಧರಿಸಿದೆ.



English students

ಇಂಗ್ಲೀಷ್ ವಿದ್ಯಾರ್ಥಿಗಳು



Psychology students

ಮನಃಶಾಸ್ತ್ರ ವಿದ್ಯಾರ್ಥಿಗಳು



Sociology students

ಸಮಾಜಶಾಸ್ತ್ರ ವಿದ್ಯಾರ್ಥಿಗಳು

39. Which number represents the students who study all the three subjects ?

ಯಾವ ಸಂಖ್ಯೆಯು ಎಲ್ಲಾ ಮೂರು ವಿಷಯಗಳನ್ನು ಅಧ್ಯಯನ ಮಾಡುವ ವಿದ್ಯಾರ್ಥಿಗಳನ್ನು ಪ್ರತಿನಿಧಿಸುತ್ತದೆ ?

- 1) 6
- 2) 5
- 3) 4
- 4) 2

40. Which number represents the students who study only Psychology ?

ಯಾವ ಸಂಖ್ಯೆಯು ಮನಃಶಾಸ್ತ್ರವನ್ನು ಮಾತ್ರ ಅಧ್ಯಯನ ಮಾಡುವ ವಿದ್ಯಾರ್ಥಿಗಳನ್ನು ಪ್ರತಿನಿಧಿಸುತ್ತದೆ ?

- 1) 2
- 2) 4
- 3) 5
- 4) 6



41. Which number represents the students who study English and Psychology only ?

ಯಾವ ಸಂಖ್ಯೆಯು ಇಂಗ್ಲೀಷ್ ಮತ್ತು ಮನಃಶಾಸ್ತ್ರವನ್ನು ಅಧ್ಯಯನ ಮಾಡುವ ವಿದ್ಯಾರ್ಥಿಗಳನ್ನು ಮಾತ್ರ ಪ್ರತಿನಿಧಿಸುತ್ತದೆ ?

- 1) 2
- 2) 3
- 3) 5
- 4) 6

42. Which number represents the students who study Psychology and Sociology only ?

ಯಾವ ಸಂಖ್ಯೆಯು ಮನಃಶಾಸ್ತ್ರ ಮತ್ತು ಸಮಾಜಶಾಸ್ತ್ರವನ್ನು ಅಧ್ಯಯನ ಮಾಡುವ ವಿದ್ಯಾರ್ಥಿಗಳನ್ನು ಮಾತ್ರ ಪ್ರತಿನಿಧಿಸುತ್ತದೆ ?

- 1) 2
- 2) 3
- 3) 4
- 4) 5

43. The number 7 represents

ಸಂಖ್ಯೆ 7 ಪ್ರತಿನಿಧಿಸುವುದು

1) English students who also study the Psychology

ಮನಃಶಾಸ್ತ್ರವನ್ನೂ ಸಹ ಅಧ್ಯಯನ ಮಾಡುವ ಇಂಗ್ಲೀಷ್ ವಿದ್ಯಾರ್ಥಿಗಳು

2) English students who also study the Sociology

ಸಮಾಜಶಾಸ್ತ್ರವನ್ನೂ ಸಹ ಅಧ್ಯಯನ ಮಾಡುವ ಇಂಗ್ಲೀಷ್ ವಿದ್ಯಾರ್ಥಿಗಳು

3) Only English students

ಇಂಗ್ಲೀಷ್ ವಿದ್ಯಾರ್ಥಿಗಳನ್ನು ಮಾತ್ರ

4) Only Psychology students

ಮನಃಶಾಸ್ತ್ರ ವಿದ್ಯಾರ್ಥಿಗಳನ್ನು ಮಾತ್ರ



(Questions 44 – 48)

Directions : Read the following questions carefully and find the answers.

(ಪ್ರಶ್ನೆಗಳು 44 – 48)

ಸೂಚನೆಗಳು : ಈ ಕೆಳಗೆ ಕೊಟ್ಟಿರುವ ಪ್ರಶ್ನೆಗಳನ್ನು ಗಮನವಿಟ್ಟು ಓದಿ. ಪ್ರತಿಯೊಂದು ಪ್ರಶ್ನೆಗೂ ಉತ್ತರವನ್ನು ಕಂಡುಹಿಡಿಯಿರಿ.

44. Shrihan starts off left and moves 8 km., then he turns right and moves 4 km., again he turns right and moves 8 km. How far is he from his original position ?

- 1) 20 km
- 2) 12 km
- 3) 8 km
- 4) 4 km

45. Hithaishini's father is twice as old as her brother. She is 7 years younger to her brother but 3 years elder to her sister. If her sister is 12 years of age, how old is her father ?

- 1) 30 years
- 2) 44 years
- 3) 45 years
- 4) 50 years

46. If all the numbers from 1 to 100 are written, how many times 3 will occur ?

- 1) 18
- 2) 19
- 3) 20
- 4) 21

44. ಶ್ರೀಹಾನ್ ಎಡಭಾಗದಿಂದ ಪ್ರಾರಂಭಿಸಿ 8 km. ಚಲಿಸುತ್ತಾನೆ, ಅವನು ನಂತರ ಬಲಕ್ಕೆ ತಿರುಗಿ 4 km. ಚಲಿಸುತ್ತಾನೆ, ನಂತರ ಮತ್ತೆ ಅವನು ಬಲಕ್ಕೆ ತಿರುಗಿ 8 km. ದೂರ ಚಲಿಸುತ್ತಾನೆ. ಅವನು ಈಗ ತನ್ನ ಮೂಲಸ್ಥಾನದಿಂದ ಎಷ್ಟು ದೂರದಲ್ಲಿದ್ದಾನೆ ?

45. ಹಿತ್ಯೈಷಿನಿಯ ತಂದೆಯು ಅವಳ ಸಹೋದರನ ಎರಡರಷ್ಟು ವಯಸ್ಸಿನವರಾಗಿದ್ದಾರೆ. ಅವಳು ತನ್ನ ಸಹೋದರನಿಗಿಂತ 7 ವರ್ಷ ಚಿಕ್ಕವಳಾಗಿದ್ದಾಳೆ ಆದರೆ ತನ್ನ ಸಹೋದರಿಗಿಂತ 3 ವರ್ಷ ದೊಡ್ಡವಳಾಗಿದ್ದಾಳೆ. ಅವಳ ಸಹೋದರಿಯ ವಯಸ್ಸು 12 ವರ್ಷಗಳಾಗಿದ್ದರೆ, ಅವಳ ತಂದೆಯ ವಯಸ್ಸು ಎಷ್ಟು ?

- 1) 30 ವರ್ಷಗಳು
- 2) 44 ವರ್ಷಗಳು
- 3) 45 ವರ್ಷಗಳು
- 4) 50 ವರ್ಷಗಳು

46. 1 ರಿಂದ 100 ರವರೆಗಿನ ಎಲ್ಲಾ ಸಂಖ್ಯೆಗಳನ್ನು ಬರೆದರೆ, 3 ಎಷ್ಟು ಸಲ ಕಂಡುಬರುತ್ತದೆ ?



47. Chitra is taller than Kaveri, Namana is shorter than Sneha, Chitra is shorter than Namana, Sneha is taller than Megha. Who is tallest among these ?

- 1) Sneha
- 2) Namana
- 3) Megha
- 4) Chitra

48. Seven members are standing in a line in an army parade. Q is on the left hand side of R and right hand side of P. O is on right hand side of N and left hand of P. S is on right hand side of R and left hand side of T. Then who is in the centre of a line ?

- 1) S
- 2) T
- 3) P
- 4) Q

47. ಚಿತ್ರಳು ಕಾವೇರಿಗಿಂತ ಎತ್ತರವಾಗಿದ್ದಾಳೆ, ನಮನಳು ಸ್ನೇಹಳಿಗಿಂತ ಕುಳ್ಳಿಗಿದ್ದಾಳೆ, ಚಿತ್ರಳು ನಮನಳಿಗಿಂತ ಕುಳ್ಳಿಗಿದ್ದಾಳೆ, ಸ್ನೇಹಳು ಮೇಘಳಿಗಿಂತ ಎತ್ತರವಾಗಿದ್ದಾಳೆ. ಇವರಲ್ಲಿ ಯಾರು ಅತ್ಯಂತ ಎತ್ತರವಾಗಿದ್ದಾರೆ ?

- 1) ಸ್ನೇಹ
- 2) ನಮನ
- 3) ಮೇಘ
- 4) ಚಿತ್ರ

48. ಸೇನೆಯ ಪೆರಡ್‌ನಲ್ಲಿ ಏಳು ಜನರು ಒಂದು ಸಾಲಿನಲ್ಲಿ ನಿಂತಿರುತ್ತಾರೆ. Q ಎಂಬುವವನು Rನ ಎಡಭಾಗದಲ್ಲಿ ಮತ್ತು Pನ ಬಲಭಾಗದಲ್ಲಿ ನಿಂತಿದ್ದಾನೆ. O ಎಂಬುವವನು Nನ ಬಲಭಾಗದಲ್ಲಿ ಮತ್ತು Pನ ಎಡಭಾಗದಲ್ಲಿ ನಿಂತಿದ್ದಾನೆ. S ಎಂಬುವವನು Rನ ಬಲಭಾಗದಲ್ಲಿ ಮತ್ತು Tನ ಎಡಭಾಗದಲ್ಲಿ ನಿಂತಿದ್ದಾನೆ. ಹಾಗಾದರೆ ಈ ಸಾಲಿನ ಮಧ್ಯದಲ್ಲಿ ನಿಂತಿರುವವರು ಯಾರು?

GMAT (K-8)



(Questions 49 – 52)

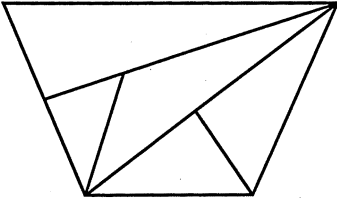
Directions : Identify the number of specified geometric shapes in the given diagram and mark the correct answer.

(ಪ್ರಶ್ನೆಗಳು 49 – 52)

ಸೂಚನೆಗಳು : ಕೆಳಗೆ ಕೊಟ್ಟಿರುವ ಚಿತ್ರಗಳಲ್ಲಿ ಸೂಚಿತ ಜ್ಯಾಮಿತೀಯ ಆಕೃತಿಗಳ ಸಂಖ್ಯೆಯನ್ನು ಕಂಡುಹಿಡಿದು, ಉತ್ತರವನ್ನು ಗುರುತಿಸಿ.

49. How many Triangles are there in the given figure ?


ಕೆಳಗೆ ಕೊಟ್ಟಿರುವ ಆಕೃತಿಯಲ್ಲಿ ಎಷ್ಟು ತ್ರಿಭುಜಗಳಿವೆ ?



- 1) 5
- 2) 6
- 3) 7
- 4) 8

50. How many Rectangles are there in the given figure ?

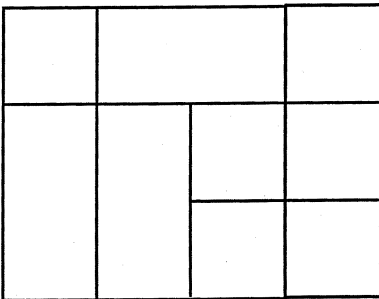
ಕೆಳಗೆ ಕೊಟ್ಟಿರುವ ಆಕೃತಿಯಲ್ಲಿ ಎಷ್ಟು ಆಯತಗಳಿವೆ ?



- 1) 11
- 2) 12
- 3) 13
- 4) 14

51. How many Squares are there in the given figure ?

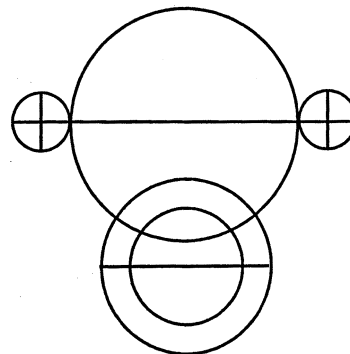
ಕೆಳಗೆ ಕೊಟ್ಟಿರುವ ಆಕೃತಿಯಲ್ಲಿ ಎಷ್ಟು ಚೌಕಗಳಿವೆ ?



- 1) 11
- 2) 12
- 3) 13
- 4) 14

52. How many Semicircles are there in the given figure ?

ಕೆಳಗೆ ಕೊಟ್ಟಿರುವ ಆಕೃತಿಯಲ್ಲಿ ಎಷ್ಟು ಅರ್ಧವೃತ್ತಗಳಿವೆ ?



- 1) 14
- 2) 16
- 3) 18
- 4) 20

GMAT (K-8)



(Questions 53 – 56)

Directions : In the following questions a word is written according to some code. In each question a word is given and find how this can be written in the same code.

(ಪ್ರಶ್ನೆಗಳು 53 – 56)

ಸೂಚನೆಗಳು : ಈ ಕೆಳಗಿನ ಪ್ರಶ್ನೆಗಳ ಒಂದು ಪದವನ್ನು ಸಾಂಕೇತಿಕ ಭಾಷೆಯಲ್ಲಿ ಬರೆಯಲಾಗಿದೆ. ಅದನ್ನು ಅದೇ ಸಾಂಕೇತಿಕ ಭಾಷೆಯಲ್ಲಿ ಹೇಗೆ ಬರೆಯಬಹುದೆಂಬುದನ್ನು ಕಂಡುಹಿಡಿದು ಪರ್ಯಾಯಗಳಲ್ಲಿ ಗುರುತಿಸಿ.

53. If HORSE is coded as UBEFR, then DONKEY can be coded as

HORSE ಎಂಬ ಪದವನ್ನು **UBEFR** ಎಂದು ಸಂಕೇತೀಕರಿಸಿದರೆ, **DONKEY** ಎಂಬ ಪದವನ್ನು ಹೀಗೆ ಸಂಕೇತಿಸಬಹುದು.

- 1) LRXQBA
- 2) QBALXR
- 3) QABXRL
- 4) QBAXRL

54. If GLUCOSE is coded as TOFXLHV, then HORLICKS can be coded as

GLUCOSE ಎಂಬ ಪದವನ್ನು **TOFXLHV** ಎಂದು ಸಂಕೇತೀಕರಿಸಿದರೆ **HORLICKS** ಎಂಬ ಪದವನ್ನು ಹೀಗೆ ಸಂಕೇತಿಸಬಹುದು.

- 1) SLIXROHP
- 2) HPXROSLI
- 3) SLIORXPH
- 4) SLORIPXH

55. If CHILD is coded as xsrow, then BEAK can be coded as

CHILD ಎಂಬ ಪದವನ್ನು **xsrow** ಎಂದು ಸಂಕೇತೀಕರಿಸಿದರೆ, **BEAK** ಎಂಬ ಪದವನ್ನು ಹೀಗೆ ಸಂಕೇತಿಸಬಹುದು

- 1) zyvp
- 2) yvzp
- 3) yvzq
- 4) pvyz

56. If DHARWAD is coded as 23, 19, 26, 9, 4, 26, 23, then KALBURGI can be coded as

DHARWAD ಎಂಬ ಪದವನ್ನು **23, 19, 26, 9, 4, 26, 23** ಎಂದು ಸಂಕೇತೀಕರಿಸಿದರೆ, **KALBURGI** ಎಂಬ ಪದವನ್ನು ಹೀಗೆ ಸಂಕೇತಿಸಬಹುದು

- 1) 16, 26, 15, 25, 6, 9, 20, 18
- 2) 11, 1, 12, 2, 21, 18, 7, 9
- 3) 16, 26, 15, 24, 6, 18, 20, 19
- 4) 16, 26, 15, 25, 9, 6, 18, 20



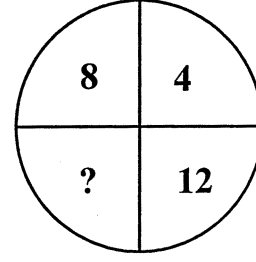
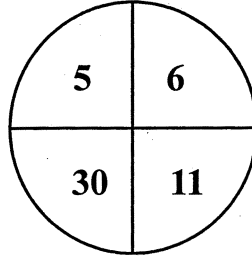
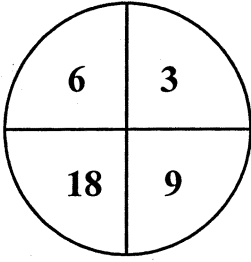
(Questions 57 – 61)

Directions : In the questions below the numbers in the figures are related. Identify their relationship and find the missing numbers in the given figures.

(ಪ್ರಶ್ನೆಗಳು 57 – 61)

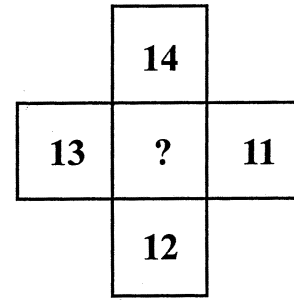
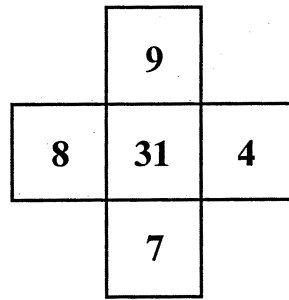
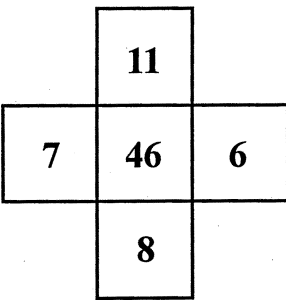
ಸೂಚನೆಗಳು : ಈ ಕೆಳಗೆ ಕೊಟ್ಟಿರುವ ಪ್ರಶ್ನೆಗಳಲ್ಲಿ, ಆಕೃತಿಗಳಲ್ಲಿರುವ ಸಂಖ್ಯೆಗಳು ಹೊಂದಿರುವ ಸಂಬಂಧವನ್ನು ಸೂಚಿಸುತ್ತದೆ. ಈ ಸಂಬಂಧವನ್ನು ಗುರುತಿಸಿ ಚಿತ್ರಗಳಲ್ಲಿ ಬಿಟ್ಟು ಹೋಗಿರುವ ಸಂಖ್ಯೆಗಳನ್ನು ಕಂಡು ಹಿಡಿಯಿರಿ.

57.

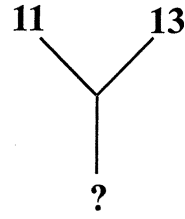
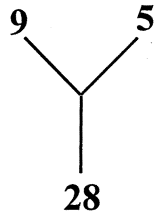
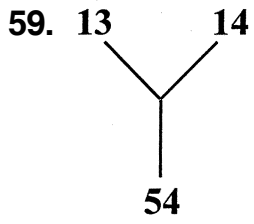


- 1) 12
- 2) 32
- 3) 48
- 4) 96

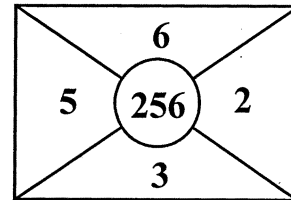
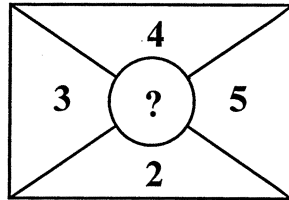
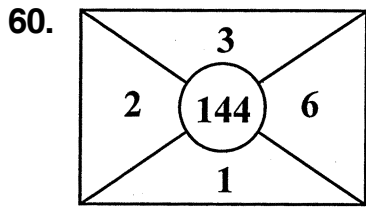
58.



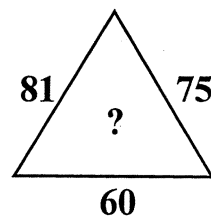
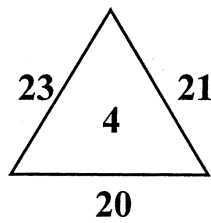
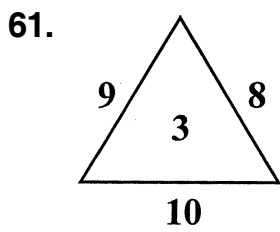
- 1) 24
- 2) 25
- 3) 26
- 4) 50



- 1) 24
- 2) 36
- 3) 42
- 4) 48



- 1) 121
- 2) 169
- 3) 196
- 4) 225



- 1) 6
- 2) 7
- 3) 8
- 4) 9

GMAT (K-8)**(Questions 62 – 65)**

Directions : In column – I words are given. Their codes are given under column – II following the same order as in column – I. Find the codes for the letters of words in column – I and find the codes for given words in the questions.

(ಪ್ರಶ್ನೆಗಳು 62 – 65)

ಸೂಚನೆಗಳು : ಸ್ತಂಭ – I ರ ಕೆಳಗೆ ಪದಗಳನ್ನು ಕೊಟ್ಟಿದೆ. ಈ ಪದಗಳ ಸಂಕೇತಗಳನ್ನು ಸ್ತಂಭ – II ರ ಕೆಳಗೆ ಕೊಟ್ಟಿದೆ. ಈ ಸಂಕೇತಗಳು ಸ್ತಂಭ – I ರ ಪದಗಳಲ್ಲಿರುವ ಅಕ್ಷರಗಳಿಗೆ ಅನುಕ್ರಮವಾಗಿವೆ. ಸ್ತಂಭ – I ರಲ್ಲಿರುವ ಪದಗಳ ಅಕ್ಷರಗಳಿಗೆ ಸಂಕೇತವನ್ನು ಕಂಡು ಹಿಡಿದು ಪ್ರಶ್ನೆಗಳಲ್ಲಿ ಕೊಟ್ಟಿರುವ ಪದಗಳಿಗೆ ಸಂಕೇತವನ್ನು ಗುರುತಿಸಿ.

Column – I

ಸ್ತಂಭ – I

GOLF**RADIO****TENNIS****VISION****Column – II**

ಸ್ತಂಭ – II

% ! @ #

& + \$ ® !

? € ∅ ∅ ® ©

μ ® © ® ! ∅

62. FIRE

1) # ∅ & €

2) # ! \$ @

3) & # ® €

4) # ® & €

63. GOAT

1) + ! % ?

2) € % \$ +

3) % ! + ?

4) % ! ? +



64. REVISE

1) & € µ © € \$

2) & \$ µ © \$ €

3) # © µ ! ® ©

4) & € µ ® © €

65. The code ? & € + ? represents the word

ಸಂಕೇತ ? & € + ? ಸೂಚಿಸುವ ಪದ

1) TREAT

2) TRADE

3) LEAST

4) LEAVE

GMAT (K-8)



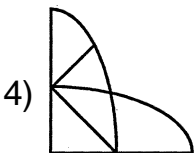
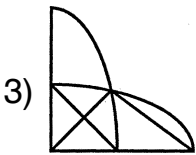
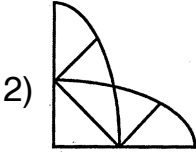
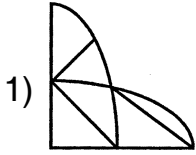

(Questions 66 – 69)

Directions : In questions given part of the figure is missing. Identify the missing part from among the given choices under each question.

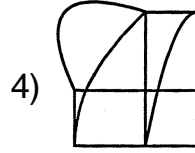
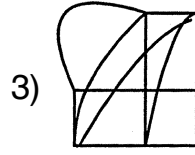
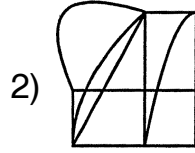
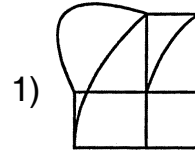
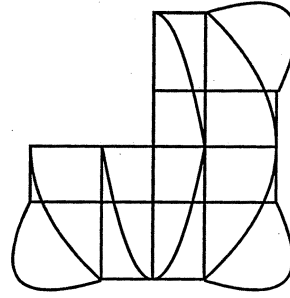
(ಪ್ರಶ್ನೆಗಳು 66 – 69)

ಸೂಚನೆಗಳು : ಈ ಕೆಳಗಿನ ಪ್ರಶ್ನೆಗಳಲ್ಲಿ ಆಕೃತಿಯ ಒಂದು ಭಾಗ ಅಪೂರ್ಣವಾಗಿದೆ. ಅದನ್ನು ಪ್ರತಿಯೊಂದು ಪ್ರಶ್ನೆಯ ಕೆಳಗೆ ಕೊಟ್ಟಿರುವ ನಾಲ್ಕು ಪರ್ಯಾಯಗಳಿಂದ ಗುರುತಿಸಿ.

66.

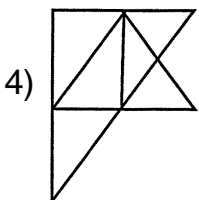
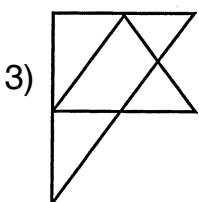
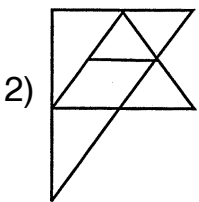
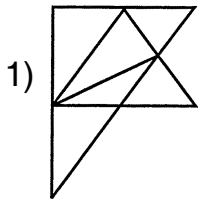
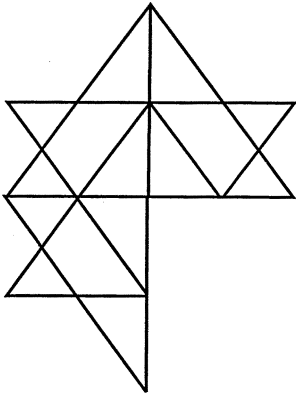


67.

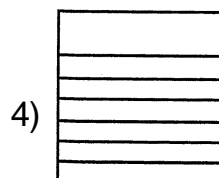
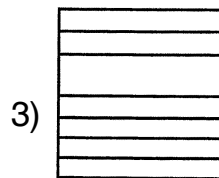
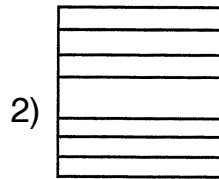
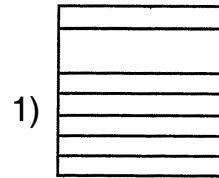
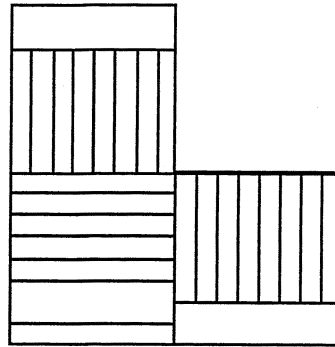




68.



69.






(Questions 70 – 73)

Directions : In each of the questions there are four figures. Among these three are alike in some way, while one is different. Find the figure which is different.


(ಪ್ರಶ್ನೆಗಳು 70 – 73)

ಸೂಚನೆಗಳು : ಈ ಕೆಳಗಿನ ಪ್ರಶ್ನೆಗಳಲ್ಲಿ ಪ್ರತಿಯೊಂದರಲ್ಲಿಯೂ ನಾಲ್ಕು ಆಕೃತಿಗಳಿವೆ. ಇವುಗಳ ಪೈಕಿ ಮೂರು ಒಂದು ರೀತಿಯಲ್ಲಿ ಸದೃಶವಾಗಿವೆ. ಆದರೆ ಒಂದು ಮಾತ್ರ ವಿಭಿನ್ನವಾಗಿದೆ. ಈ ವಿಭಿನ್ನವಾಗಿರುವುದನ್ನು ಕಂಡು ಹಿಡಿಯಿರಿ.


70.



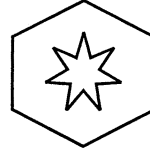
1)



2)

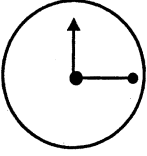


3)

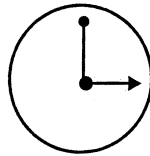


4)

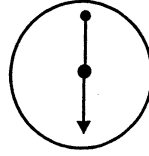
71.



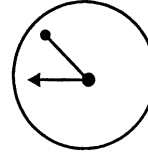
1)



2)

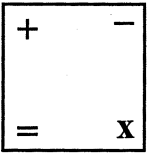


3)

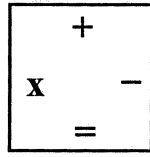


4)

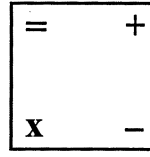
72.



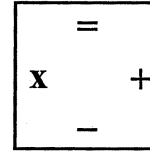
1)



2)

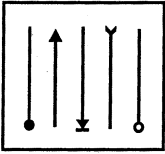


3)

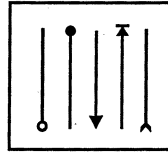


4)

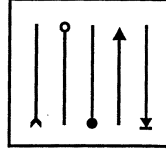
73.



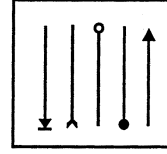
1)



2)



3)



4)

GMAT (K-8)

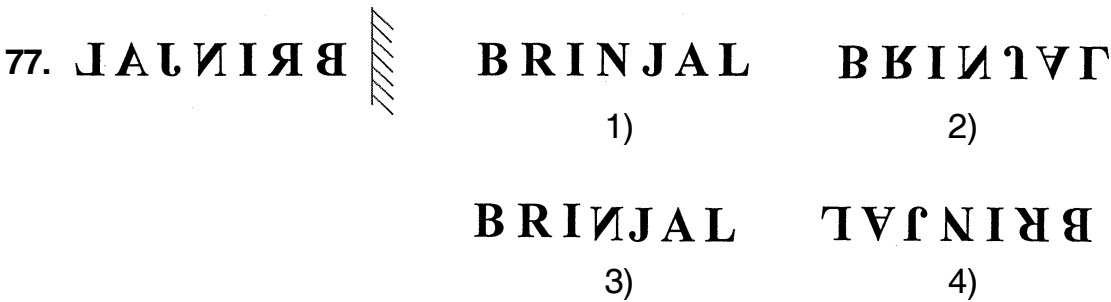
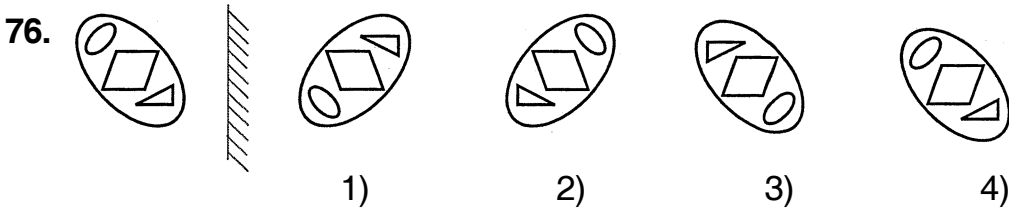
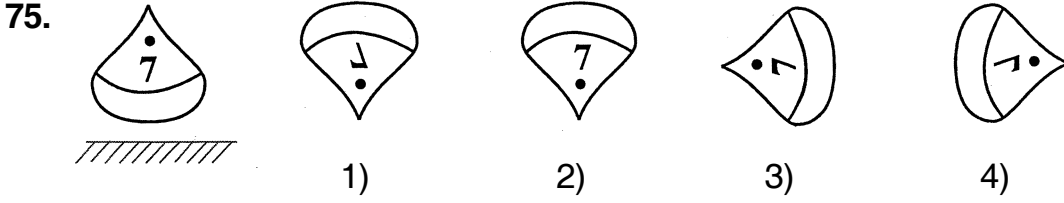
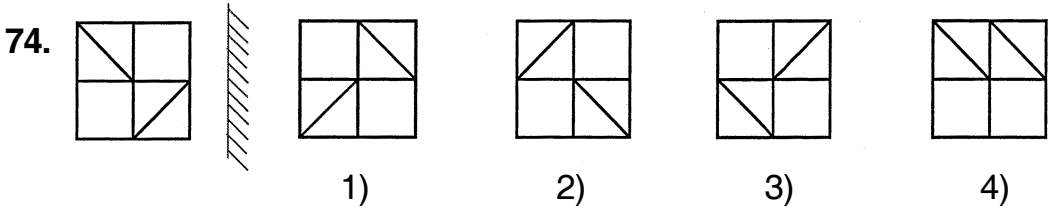


(Questions 74 – 77)

Directions : In the questions given there are figures/words to the top/left of the mirror indicated by lines and their mirror images are given in one of the four figures/ words to the right of these. Find the exact mirror image of each figure/word.

(ಪ್ರಶ್ನೆಗಳು 74 – 77)

ಸೂಚನೆಗಳು : ಕೊಟ್ಟಿರುವ ಪ್ರಶ್ನೆಗಳಲ್ಲಿ, ರೇಖೆಗಳ ಮೇಲ್ಭಾಗ/ಎಡಭಾಗದಲ್ಲಿರುವ ಚಿತ್ರ/ಪದಗಳ ದರ್ಪಣ ಪ್ರತಿಬಿಂಬಗಳನ್ನು ಬಲಭಾಗದಲ್ಲಿ ಕೊಡಲಾಗಿದೆ. ಈ ಎಡಭಾಗದಲ್ಲಿರುವ ಪ್ರತಿಚಿತ್ರ/ಪದದ ಸರಿಯಾದ ದರ್ಪಣ ಪ್ರತಿಬಿಂಬವನ್ನು ಕೊಟ್ಟಿರುವ ಆಯ್ಕೆಗಳಿಂದ ಕಂಡುಹಿಡಿಯಿರಿ.





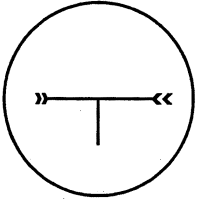
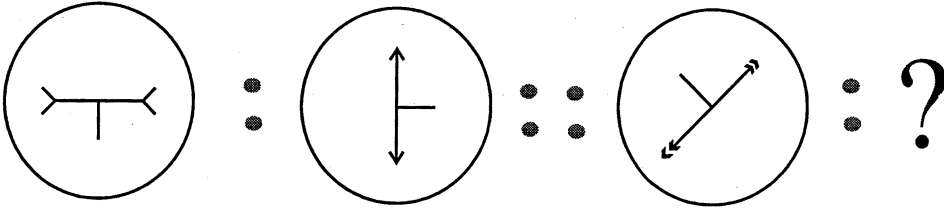
(Questions 78 – 82)

Directions : In the questions there is some relationship between the first two figures. The same relationship holds good for the second set of figures of which one is missing. This missing figure is given as one of the four alternatives. Find the correct answer.

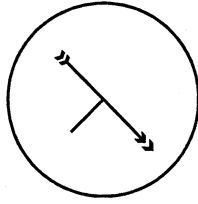
(ಪ್ರಶ್ನೆಗಳು 78 – 82)

ಸೂಚನೆಗಳು : ಕೆಳಗೆ ಕೊಟ್ಟಿರುವ ಪ್ರತಿಯೊಂದು ಪ್ರಶ್ನೆಯಲ್ಲಿಯೂ ಮೊದಲಿನ ಎರಡು ಆಕೃತಿಗಳಿಗೆ ಸಂಬಂಧವಿದೆ. ಇದೇ ಸಂಬಂಧವು ಎರಡನೇ ವರ್ಗದ ಎರಡು ಆಕೃತಿಗಳಲ್ಲಿದೆ. ಒಂದನ್ನು ಕೊಟ್ಟಿರುವುದಿಲ್ಲ. ಪ್ರತಿಯೊಂದು ಪ್ರಶ್ನೆಯ ಕೆಳಗೆ ಕೊಟ್ಟಿರುವ ನಾಲ್ಕು ಪರ್ಯಾಯಗಳಲ್ಲಿ ಸರಿಯಾದುದನ್ನು ಆಯ್ಕೆಮಾಡಿ.

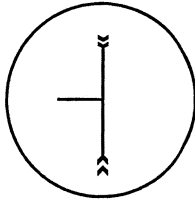
78.



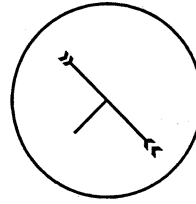
1)



2)

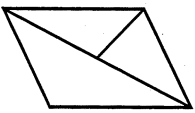
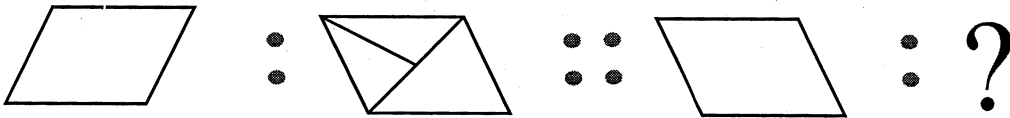


3)

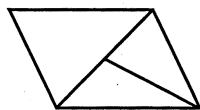


4)

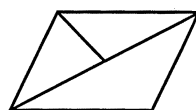
79.



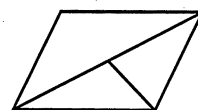
1)



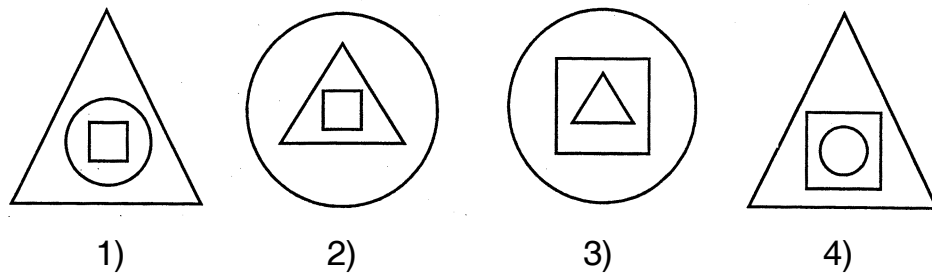
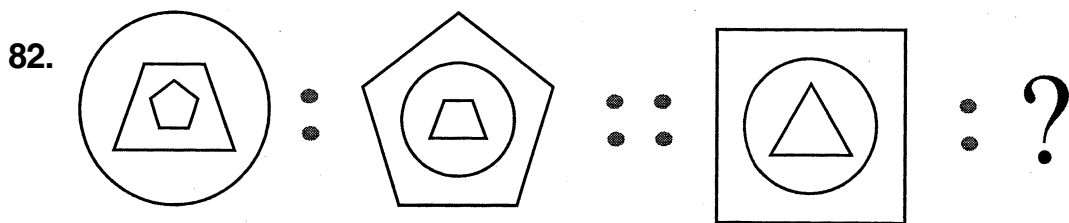
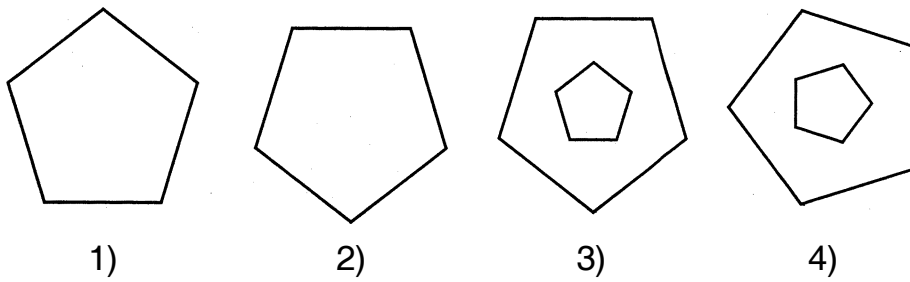
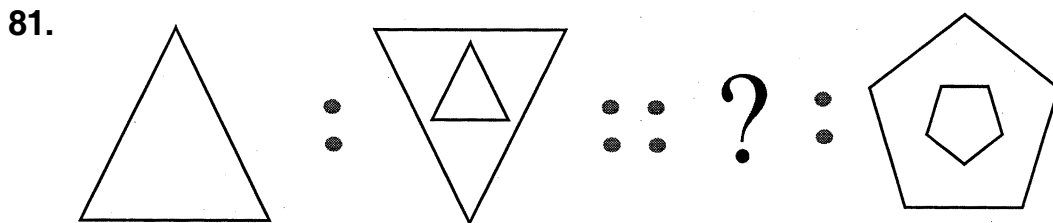
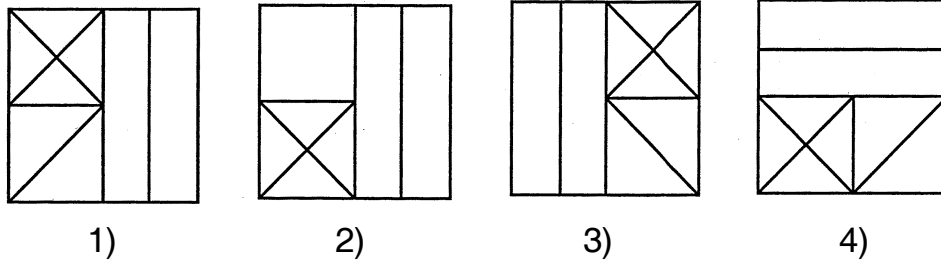
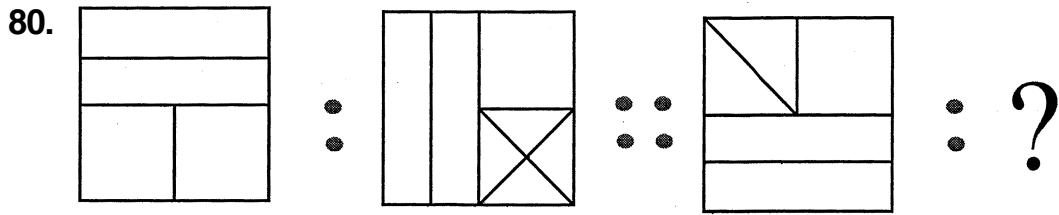
2)



3)



4)



GMAT (K-8)



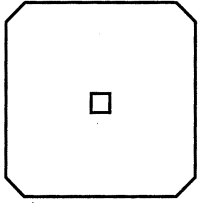
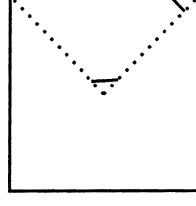
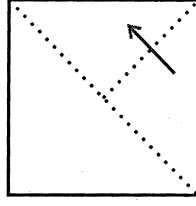
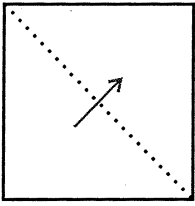
(Questions 83 – 86)

Directions : In the questions given how a sheet of paper is folded and punched is shown by figures. If the paper is unfolded how does it appear ? Select the correct answer from among the alternatives given.

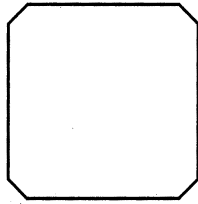
(ಪ್ರಶ್ನೆಗಳು 83 – 86)

ಸೂಚನೆಗಳು : ಕೊಟ್ಟಿರುವ ಪ್ರಶ್ನೆಗಳಲ್ಲಿ ಒಂದು ಕಾಗದದ ಹಾಳೆಯನ್ನು ಮಡಿಸಿ ರಂಧ್ರ ಮಾಡಿರುವುದನ್ನು ಚಿತ್ರಗಳ ಮೂಲಕ ತೋರಿಸಿದೆ. ಪುನಃ ಹಾಳೆಯನ್ನು ಬಿಡಿಸಿದಾಗ ಅದು ಹೇಗೆ ಕಾಣುತ್ತದೆ ? ಎಂಬುದನ್ನು ನಾಲ್ಕು ಪರ್ಯಾಯಗಳಿಂದ ಆಯ್ಕೆ ಮಾಡಿ.

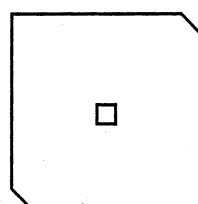
83.



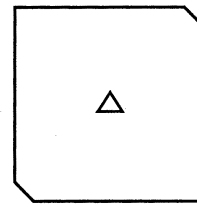
1)



2)

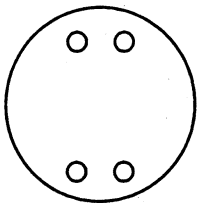
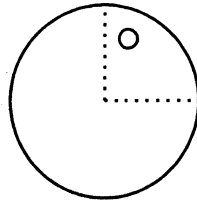
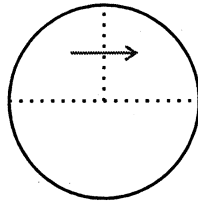
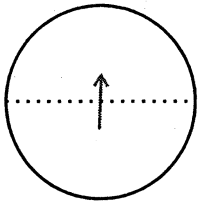


3)

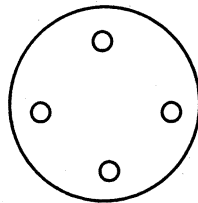


4)

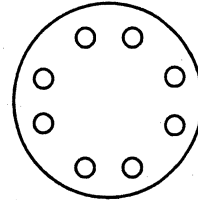
84.



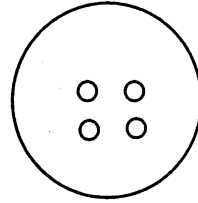
1)



2)



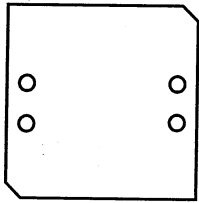
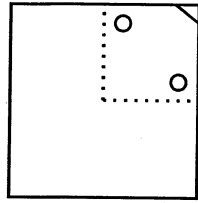
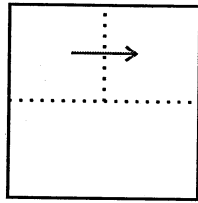
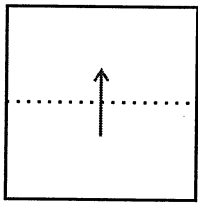
3)



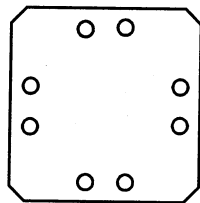
4)



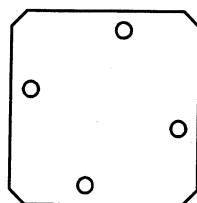
85.



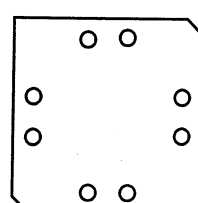
1)



2)

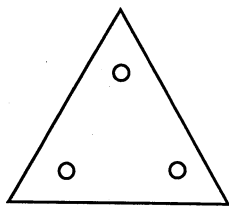
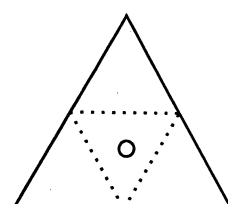
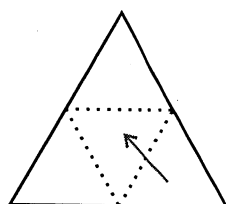
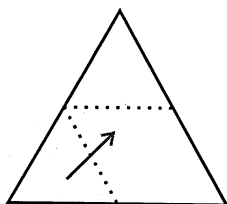
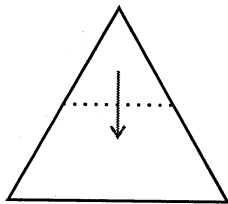


3)

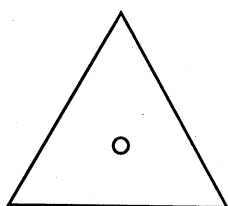


4)

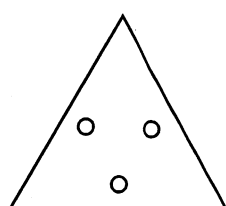
86.



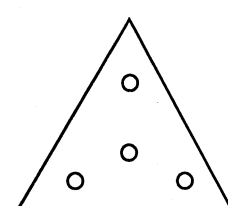
1)



2)



3)



4)

GMAT (K-8)




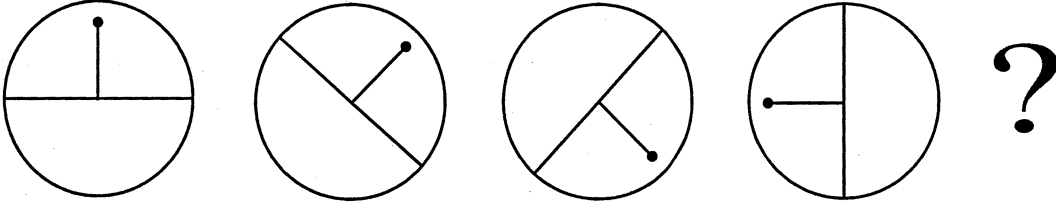
(Questions 87 – 90)

Directions : The questions given consist of series of figures which are incomplete, in order to complete the series, select the correct figure from the given choices.

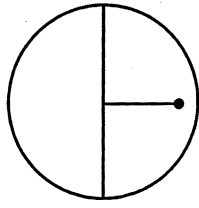
(ಪ್ರಶ್ನೆಗಳು 87 – 90)

ಸೂಚನೆಗಳು : ಕೊಟ್ಟಿರುವ ಪ್ರಶ್ನೆಗಳಲ್ಲಿ ಆಕೃತಿಗಳ ಶ್ರೇಣಿಯನ್ನು ಕೊಡಲಾಗಿದೆ, ಇದು ಪೂರ್ಣ ಶ್ರೇಣಿಯಲ್ಲ, ಪ್ರತಿ ಪ್ರಶ್ನೆಯಲ್ಲಿ ಶ್ರೇಣಿಯನ್ನು ಪೂರ್ಣಗೊಳಿಸಲು ಕೊಟ್ಟಿರುವ ನಾಲ್ಕು ಪರ್ಯಾಯಗಳಲ್ಲಿ ಸರಿಯಾದ ಆಕೃತಿಯನ್ನು ಆಯ್ಕೆ ಮಾಡಿ.

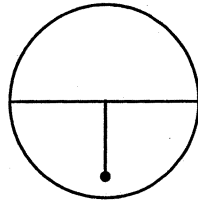
87.



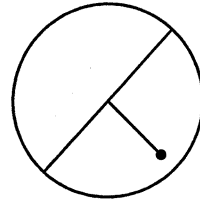
1)



2)





3)




4)


88.




1)



2)



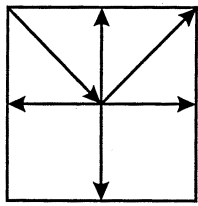
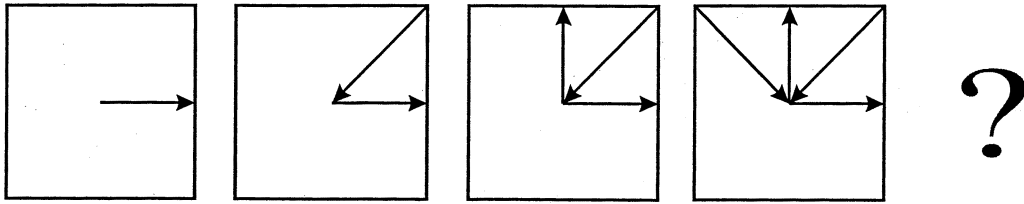
3)



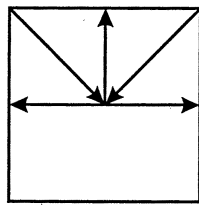
4)



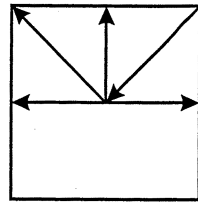
89.



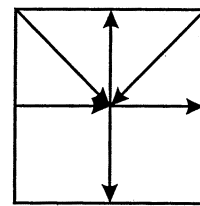
1)



2)





3)




4)


90.




1)



2)



3)



4)

GMAT (K-8)



SPACE FOR ROUGH WORK

ಚಿತ್ತು ಬರಹಕ್ಕಾಗಿ ಸ್ಥಳ

GMAT (K-8)



SPACE FOR ROUGH WORK

ಚಿತ್ತು ಬರಹಕ್ಕಾಗಿ ಸ್ಥಳ

**Instructions to Candidates**

1. The Question Booklet containing 90 questions and the OMR answer sheet is given to you.
2. All questions are compulsory, each question carry one mark.
3. During the examination,
 - Read the questions carefully.
 - Completely darken/shade the relevant oval against Question No. in the OMR answer sheet, using blue/black ball point pen. Do not try to alter the entry and not to do any stray marks on OMR Sheet.
 - Ex: In a question paper if No. 3 is the correct answer for Question No. 20, then darken in OMR answer sheet shade circle 3 using blue/black ball point pen as follows.
20. ① ② ● ④ (This is an example only)
4. If more than one oval is darkened for a given question, such answer is treated as wrong and no marks will be given.
5. The candidate and Room Supervisor should sign in the OMR sheet.
6. Candidate should return the OMR answer sheet only to the room supervisor before leaving the examination hall.
7. The calculator, mobiles and any other electronic devices are not allowed inside the examination hall.
8. English version of the question paper will be considered as final, in case of any dispute arising out of variation in translation version.

ಗಮನಿಸಿ : ಸೂಚನೆಗಳ ಕನ್ನಡ ಆವೃತ್ತಿಯು ಈ ಪುಸ್ತಿಕೆಯ ಮುಂಭಾಗದಲ್ಲಿ ಮುದ್ರಿಸಲ್ಪಟ್ಟಿದೆ.